



PROFESSIONAL EXAMINATION BOARD
B,A. B.Ed. / B. SC. B.Ed. / Bachelor of
Elementary Education (B.El.Ed.) (4
Years Course)

29th May 2017 09:00AM

Topic:- BA.B.SC.B.ED.General Awareness

1) Which of the following law states that "Under Elastic limit, stress is directly proportional to strain"? / निम्न में से कौनसे नियम के अनुसार यह जाना जाता है की "लोचदार सीमा में प्रतिबल (stress), विकृति (strain) के समानुपाती होता है"?

1. Stefan's Law / स्टेफन का नियम
2. Hooke's Law / हुक का नियम
3. Newton's Law / न्यूटन का नियम
4. Kirchoff's Law / किर्चोफ़ का नियम

Correct Answer :-

- Hooke's Law / हुक का नियम

2) Which of the following blood-group is called the 'Universal Donor'? / निम्न में से कौन से रक्त समूह को 'यूनिवर्सल डोनर' कहा जाता है?

1. A
2. B
3. AB
4. O

Correct Answer :-

- O

3) Which of the following medicinal herbs are available in Madhya Pradesh? / निम्नलिखित में से कौनसे औषधीय पौधे मध्यप्रदेश में पाए जाते हैं?

1. Gwarpatha / घृतकुमारी
2. Nagarmotha / नागरमोथा
3. Both of these / उपरोक्त दोनों

4. None of these / इनमें से कोई नहीं

Correct Answer :-

- Both of these / उपरोक्त दोनों

4) Recently the strategic anti-Naxal operations command headquarters of the Central Reserve Police Force (CRPF) has been shifted to Raipur. Where was it initially? / हाल ही में केंद्रीय रिजर्व पुलिस बल (सीआरपीएफ) के रणनीतिक नक्सल-विरोधी संचालन कमांड मुख्यालय को रायपुर में स्थानांतरित कर दिया गया है। इसके पूर्व यह कहाँ था?

1. Kolkata / कोलकाता
2. Jhargram / झारग्राम
3. Bhubaneswar / भुवनेश्वर
4. Delhi / दिल्ली

Correct Answer :-

- Kolkata / कोलकाता

5) Which of the following is the largest external organ of the human body? / निम्नलिखित में से कौन सा मानव शरीर का सबसे बड़ा बाहरी अंग है?

1. Head / सर
2. Skin / त्वचा
3. Tongue / जीभ
4. Pancreas / अग्न्याशय

Correct Answer :-

- Skin / त्वचा

6) Who was the inventor of the Spinning Jenny? / स्पिनिंग जेनी के आविष्कारक कौन थे?

1. Sir Richard Arkwright / सर रिचर्ड आर्कराइट
2. Sir Issac Pitman / सर आइसक पिटमैन
3. Harry Brearley / हैरी ब्रिएर्ली
4. James Hargreaves / जेम्स हार्ग्रैव्स

Correct Answer :-

- James Hargreaves / जेम्स हार्ग्रैव्स

7) Which of the following states recently shifted its financial year to January-December format? / निम्न में से कौनसे राज्य ने हाल ही में अपना वित्तीय वर्ष जनवरी-दिसम्बर में परिवर्तित कर लिया?

1. Odisha / ओडिशा
2. Madhya Pradesh / मध्यप्रदेश
3. Chhattisgarh / छत्तीसगढ़
4. None of these / इनमें से कोई नहीं

Correct Answer :-

- Madhya Pradesh / मध्यप्रदेश

8) Which of the following districts of Madhya Pradesh is governed according to the Fifth Schedule of the Indian Constitution? / भारतीय संविधान के पांचवें अनुसूची के अनुसार मध्य प्रदेश के निम्नलिखित जिलों में से कौन सा शासित है?

1. Mandla / मंडला
2. Hoshangabad / होशंगाबाद
3. Sagar / सागर
4. Anuppur / अनूपपुर

Correct Answer :-

- Mandla / मंडला

9) Which of the following Mahajanapadas had Ujjain as its capital? / निम्न महाजनपदों में से उज्जैन किसकी राजधानी थी?

1. Malla / मल्ला
2. Avanti / अवन्ती
3. Anga / अंगा
4. Kosala / कोशल

Correct Answer :-

- Avanti / अवन्ती

10) Which of the following rivers flows through the Panna Tiger Reserve? / निम्न में से कौन-सी नदी पन्ना बाघ अभ्यारण्य से गुज़रती है?

1. Ken / केन

2. Banjar / बंजर
3. Halon / हालोन
4. Charanganga / चरणगंगा

Correct Answer :-

- Ken / केन

11) Where is the Fair of Jageshwari Devi held in Madhya Pradesh? / मध्यप्रदेश के कौनसे जगह पर जागेश्वरी देवी का मेला आयोजित होता है?

1. Hoshangabad / होशंगाबाद
2. Chanderi / चंदेरी
3. Orchha / ओरछा
4. Bhopal / भोपाल

Correct Answer :-

- Chanderi / चंदेरी

12) In which of the following cases did the Supreme Court come up with the Basic Structure Doctrine? / निम्नलिखित में से किस मामले में सुप्रीम कोर्ट ने सर्वप्रथम मूल संरचना सिद्धांत की राय निकाली?

1. Menaka Case / मेनका केस
2. Golak Nath Case / गोलक नाथ केस
3. Keshavananda Bharati Case / केशवानंद भारती केस
4. Gopalan Case / गोपालन केस

Correct Answer :-

- Keshavananda Bharati Case / केशवानंद भारती केस

13) What has been India's best ranking in FIFA till now? / अब तक फीफा में भारत की सर्वश्रेष्ठ रैंकिंग क्या रही है?

1. 94
2. 95
3. 96
4. 97

Correct Answer :-

14) For a foreigner to acquire Indian citizenship by naturalization, he has to ordinarily reside in India for _____ years. / किसी विदेशी को प्राकृतिक नागरिकता के अधिग्रहण के लिए, उन्हें सामान्यतः _____ वर्षों के लिए भारत में रहना होगा।

1. 7
2. 9
3. 10
4. 12

Correct Answer :-

- 12

15) Which of the following articles of the Indian Constitution describes the composition of the Rajya Sabha? / भारतीय संविधान के कौनसे अनुच्छेद में राज्य सभा की रचना का वर्णन किया गया है?

1. 79
2. 80
3. 81
4. 82

Correct Answer :-

- 80

16) Which of the following didn't belong to the Shad Darshanas? / निम्न में से कौन-सा शाद दर्शन में शामिल नहीं है?

1. Sankhya / संख्या
2. Vyakarana / व्याकरण
3. Vaisesika / वैसेसिका
4. Yoga / योग

Correct Answer :-

- Vyakarana / व्याकरण

17) Which of the following is an ore of Aluminium? / इनमें से कौन सा एल्युमीनियम की एक अयस्क है?

1. Borax / सुहागा
2. Dolomite / डोलोमाइट
3. Carnallite / कार्नाल्लाइट
4. Bauxite / बॉक्साइट

Correct Answer :-

- Bauxite / बॉक्साइट

18) Other than Madhya Pradesh which of the following states also produce diamonds in India? / मध्य प्रदेश के अलावा भारत के निम्नलिखित राज्यों में से हीरे का उत्पादन कहाँ होता है?

1. Chhattisgarh / छत्तीसगढ़
2. Odisha / ओडिशा
3. Rajasthan / राजस्थान
4. None of these / इनमें से कोई नहीं

Correct Answer :-

- None of these / इनमें से कोई नहीं

19) From which of the following states did the Madhubani Paintings originate? / निम्न में से कौन-से राज्य से मधुबनी चित्रकला की शुरुआत हुई थी?

1. West Bengal / पश्चिम बंगाल
2. Odisha / ओडिशा
3. Bihar / बिहार
4. Assam / असम

Correct Answer :-

- Bihar / बिहार

20) Which of the following states has launched the Anandam scheme? / निम्न में से किस राज्य ने हाल ही में आनंदम योजना का आरम्भ किया है?

1. Madhya Pradesh / मध्यप्रदेश
2. Chhattisgarh / छत्तीसगढ़
3. Odisha / ओडिशा
4. Rajasthan / राजस्थान

Correct Answer :-

- Madhya Pradesh / मध्यप्रदेश

21) Which of the following will have a higher pH? / निम्न में से किसकी पीएच अधिक होगी?

1. Lemon Juice / निम्बू का रस
2. Milk / दूध
3. Coffee / कॉफ़ी
4. Pure Water / स्वच्छ पानी

Correct Answer :-

- Pure Water / स्वच्छ पानी

22) In which of the following years was the Madhya Pradesh State Planning Board renamed to State Planning Commission? / निम्न में से किस वर्ष में मध्यप्रदेश के स्टेट प्लानिंग बोर्ड का नाम बदलकर स्टेट प्लानिंग कमीशन का नाम रखा गया?

1. 2005
2. 2006
3. 2007
4. 2008

Correct Answer :-

- 2007

23) Which of the following tournaments is related to Tennis? / निम्न में से कौनसा टूर्नामेंट टेनिस से सम्बंधित है?

1. Davis Cup / डेविस कप
2. I-League / आई लीग
3. Santosh Trophy / संतोष ट्राफी
4. Durand Cup / डूरंड कप

Correct Answer :-

- Davis Cup / डेविस कप

24)

Bhoorsingh the Barasingha has been selected as the mascot of - / भूरसिंह बारहसिंगा निम्न में से कौन-से अभ्यारण्य का शुभांकर के रूप में चुना गया है?

1. Pench Tiger Reserve / पेंच बाघ अभ्यारण्य
2. Panna Tiger Reserve / पन्ना बाघ अभ्यारण्य
3. Kanha Tiger reserve / कान्हा बाघ अभ्यारण्य
4. Bandhavgarh National Park / बांधवगढ़ राष्ट्रीय उद्यान

Correct Answer :-

- Kanha Tiger reserve / कान्हा बाघ अभ्यारण्य

25) Which of the following is the State Bird of Madhya Pradesh? / निम्न में से कौन सा मध्यप्रदेश का राज्य-पक्षी है?

1. Koel / कोयल
2. Indian Roller / नीलकंठ पक्षी
3. Great Hornbill / विशाल धनेश
4. Paradise Fly Catcher / दूधराज

Correct Answer :-

- Paradise Fly Catcher / दूधराज

26) Which of the following schemes is related to the Ministry of Food Processing Industries? / निम्न में से कौन-सा योजना खाद्य प्रसंस्करण उद्योग मंत्रालय से सम्बंधित है?

1. SAMPADA / सम्पदा
2. SAANJHI / सांझी
3. PAHAL / पहल
4. UDAY / उदय

Correct Answer :-

- SAMPADA / सम्पदा

27) Who is credited with the discovery of the Law of Electrical Resistance? / विद्युत प्रतिरोध नियम की खोज का श्रेय किसको जाता है?

1. G. S. Ohm / जी एस ओम
2. Michael Faraday / माइकल फैराडे

3. Coulomb / कूलम्ब

4. Marconi / मार्कोनी

Correct Answer :-

- G. S. Ohm / जी एस ओम

28) Which of the following is a Kharif crop? / निम्नलिखित में से कौन सी खरीफ फसल है?

1. Wheat / गेहूं

2. Barley / जौ

3. Millets / बाजरा

4. None of these / इनमें से कोई नहीं

Correct Answer :-

- Millets / बाजरा

29) The present House of the Madhya Pradesh Vidhan Sabha is the _____ Vidhan Sabha. / मध्यप्रदेश विधान सभा की वर्तमान सभा _____ विधान सभा है।

1. 12th / 12-वा

2. 13th / 13-वा

3. 14th / 14-वा

4. 15th / 15-वा

Correct Answer :-

- 14th / 14-वा

30) Which of the following freedom-fighters was/were born in Madhya Pradesh? / निम्नलिखित में से कौन से स्वतंत्रता सेनानी/सेनानियों का जन्म मध्य प्रदेश में हुआ था?

1. Tantia Bhil / तांतिया भील

2. Chandra Shekhar Azad / चन्द्र शेखर आज़ाद

3. Both of the above / उपरोक्त दोनों

4. None of the above / उपरोक्त में से कोई नहीं

Correct Answer :-

- Both of the above / उपरोक्त दोनों

31) In which year was the present building of the Madhya Pradesh Vidhan Sabha designed? / मध्य प्रदेश विधानसभा की वर्तमान इमारत किस वर्ष में तैयार की गई थी?

1. 1964
2. 1965
3. 1966
4. 1967

Correct Answer :-

- 1967

32) In which of the following centuries was Northern Madhya Pradesh conquered by the Delhi Sultanate? / निम्नलिखित में से किस सदी में दिल्ली सल्तनत ने उत्तरी मध्यप्रदेश पर कब्ज़ा कर लिया था?

1. 11th / 11-वीं
2. 12th / 12-वीं
3. 13th / 13-वीं
4. 14th / 14-वीं

Correct Answer :-

- 13th / 13-वीं

33) Which of the following was the focus of the Ninth Five Year Plan? / इनमें से कौन सा नौवीं पंचवर्षीय योजना का ध्यान केंद्र था?

1. Growth with Social Justice and Equity / सामाजिक न्याय और न्यायसम्य के साथ विकास
2. Growth with Stability / स्थिरता के साथ विकास
3. Faster and More Inclusive Growth / तेज़ और अधिक समावेशी विकास
4. Development of Human Resources / मानव संसाधन विकास

Correct Answer :-

- Growth with Social Justice and Equity / सामाजिक न्याय और न्यायसम्य के साथ विकास

34) In which year was the Kalidas Samman constituted by Madhya Pradesh? / किस वर्ष में मध्यप्रदेश में कालिदास सम्मान की स्थापना की गयी?

1. 1980
2. 1981

3. 1982

4. 1983

Correct Answer :-

- 1980

35) Which of the following amendments incorporated the Fundamental Duties in the Constitution of India? / निम्नलिखित में से कौनसे संशोधन के अंतर्गत भारतीय संविधान में मूलभूत कर्तव्यों को शामिल किया गया?

1. 40th / 40-वा

2. 41st / 41-वा

3. 42nd / 42-वा

4. 43rd / 43-वा

Correct Answer :-

- 42nd / 42-वा

36) In which state is the Burzil Pass situated? / किस राज्य में बुर्जी-ला पास स्थित है?

1. Jammu and Kashmir / जम्मू एवं कश्मीर

2. Himachal Pradesh / हिमाचल प्रदेश

3. Sikkim / सिक्किम

4. Arunachal Pradesh / अरुणाचल प्रदेश

Correct Answer :-

- Jammu and Kashmir / जम्मू एवं कश्मीर

37) The New Industrial Policy 1991 reduced the number of industries reserved for the Public Sector. What was the number that the reserved industries were reduced by this Policy? / नयी औद्योगिक नीति 1991 ने सार्वजनिक क्षेत्र के लिए आरक्षित उद्योगों की संख्या कम कर दी। इस नीति से आरक्षित उद्योगों को कम करने वाली संख्या क्या थी?

1. 10

2. 9

3. 8

4. 7

Correct Answer :-

- 8

38) Which of the following parasites cause Malaria? / निम्नलिखित में से कौन सा परजीवी मलेरिया का कारण बनता है?

1. Trypanosoma / ट्राईपैनोसोमा
2. Plasmodium / प्लासमोडियम
3. Entamoeba gingivalis / एंटमोबा जिंगिवेलिस
4. None of these / इनमें से कोई नहीं

Correct Answer :-

- Plasmodium / प्लासमोडियम

39) In the Nagpur Session of December 1920, the Congress passed the main resolution on Non-Cooperation. Who was the President of this Session? / दिसंबर 1920 के नागपुर सत्र में, कांग्रेस ने गैर-सहयोग पर मुख्य प्रस्ताव पारित किया। इस सत्र के राष्ट्रपति कौन थे?

1. C.R. Das / सी.आर. दास
2. Motilal Nehru / मोतीलाल नेहरू
3. Mahatma Gandhi / महात्मा गाँधी
4. C. Vijayaraghavachariar / सी. विजयराघवाचार्य

Correct Answer :-

- C. Vijayaraghavachariar / सी. विजयराघवाचार्य

40) In which year was the Krishak Praja Party formed? / कृषक प्रजा पार्टी किस वर्ष में स्थापित की गयी?

1. 1927
2. 1928
3. 1929
4. 1930

Correct Answer :-

- 1929

1) Which one is the basic requirement to maintain good discipline in the class? / कक्षा में अच्छा अनुशासन बनाए रखने के लिए मूलभूत आवश्यकता कौन सी है?

1. Teaching skills/ शिक्षण कौशल
2. Corporal punishment/ शारीरिक दंड
3. Division of labour/ श्रम विभाजन
4. Decentralization of teaching/ शिक्षण का विकेन्द्रीकरण

Correct Answer :-

- Teaching skills/ शिक्षण कौशल

2) If P means ' \div ', R means ' \times ', T means '+' and W means '-' then: /यदि P का अर्थ है ' \div ', R का अर्थ है ' \times ', T का अर्थ है '+' और W का अर्थ है '-' तो,

60 T 48 P 8 W 6 R 9 = ?

1. 12
2. $61\frac{1}{23}$
3. $-40\frac{1}{2}$
4. 243

Correct Answer :-

- 12

3) DIRECTIONS: What should come in place of question mark (?) in the following question? / निर्देश: निम्नलिखित प्रश्न में प्रश्नवाचक चिन्ह (?) के स्थान पर क्या आयेगा?

44 \times 60 \div 80 + 45 \div 15 =?

1. 36
2. 24
3. 33
4. 32

Correct Answer :-

- 36

4) Suppose an intelligent boy of your class requests for a particular book from you. What decision will you take in this case?/ मान लीजिए कि आपकी कक्षा का एक बुद्धिमान लड़का आपसे किसी विशेष पुस्तक के लिए अनुरोध करता है। इस स्थिति में आप क्या निर्णय लेंगे?

1. Telling-a-lie that the book is not with you/ झूठ बोलेंगे की वह पुस्तक आपके पास नहीं है
2. Giving a rationale that to help him is equal to curtail other students' rights on the same book/ तर्क देंगे कि उसकी सहायता करना एक किताब पर अन्य विद्यार्थियों के अधिकारों को कम करने के समान है
3. Giving the book without any hitch for certain duration/ बिना किसी रुकावट के कुछ अवधि के लिए किताब देंगे
4. Suggest him to purchase it for himself/ उसे स्वयं वह खरीदने का सुझाव देंगे

Correct Answer :-

- Giving the book without any hitch for certain duration/ बिना किसी रुकावट के कुछ अवधि के लिए किताब देंगे

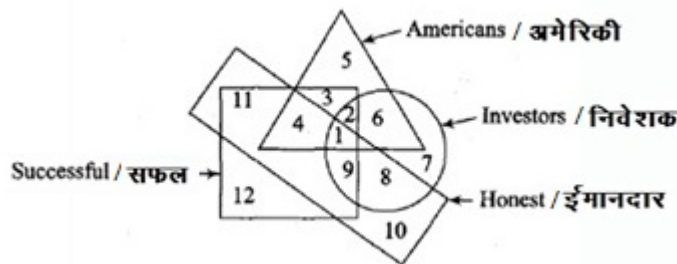
5) If 'navy' is called 'tree' ; 'tree' is called 'flag'; 'flag' is called 'oil'; 'oil' is called 'hair'; 'hair' is called 'yellow' and 'yellow' is called 'pink'; then what is colour of 'turmeric'?/ यदि 'नेवी' को 'पेड़' कहा जाता है; 'पेड़' को 'झंडा' कहा जाता है; 'झंडे' को 'तेल' कहा जाता है; 'तेल' को 'बाल' कहा जाता है; 'बाल' को 'पीला' कहा जाता है और 'पीले' को 'गुलाबी' कहा जाता है; तो 'हल्दी' का रंग क्या होगा?

1. Pink/गुलाबी
2. Yellow/पीला
3. White/सफेद
4. None of these/इनमें से कोई नहीं

Correct Answer :-

- Pink/गुलाबी

6) DIRECTIONS: The following question are based on the diagram given below:/निर्देश: निम्नलिखित प्रश्न नीचे दी गई आकृति पर आधारित हैं।



Investors, successful and honest Americans are indicated by:/ निवेशक, सफल और ईमानदार अमेरिकी को दर्शाया गया है:

1. 1
2. 2
3. 3
4. 4

Correct Answer :-

- 1

7) If a boy and a girl student came out of the cinema hall together, then you will think that :/ यदि एक लड़का और एक लड़की विद्यार्थी सिनेमा हॉल से साथ में बाहर निकलते हैं तो आप सोचेंगे कि:-

1. Perhaps they met by chance otherwise they entered separately/ शायद वे संयोग से मिले अन्यथा उन्होंने अलग-अलग प्रवेश किया था
2. Co-education has deserted modern educational values/ सह-शिक्षा ने आधुनिक शैक्षणिक महत्वों को त्याग दिया है
3. It is the matter of pride that maturity has developed in our school youth/ यह गर्व की बात है कि हमारे विद्यालय के युवाओं की परिपक्वता विकसित हुई है
4. It is the time of women's Liberation, then why to ponder over the issue/ यह महिलाओं की आजादी का समय है, तो फिर इस मुद्दे पर विचार क्यों करें

Correct Answer :-

- It is the matter of pride that maturity has developed in our school youth/ यह गर्व की बात है कि हमारे विद्यालय के युवाओं की परिपक्वता विकसित हुई है

8) The average age of three boys is 15 years. Their ages are in the ratio 3: 5: 7. Then the age of the oldest boy is: / तीन लड़कों की औसत आयु 15 वर्ष है। उनके आयु का अनुपात 3: 5: 7 है, तो सबसे बड़े लड़के की आयु है:

1. 7 years/7 वर्ष
2. 20 years/20 वर्ष
3. 21 years/21 वर्ष
4. 14 years/14 वर्ष

Correct Answer :-

- 21 years/21 वर्ष

9) If majority of students in your class are weak you should:/यदि आपकी कक्षा में अधिकांश छात्र कमजोर हैं तो आपको-

1. Not care about the intelligent students / बुद्धिमान छात्रों के बारे में परवाह नहीं करना चाहिए
2. Keep your speed of teaching fast so that students comprehension level may increase / अपने पढ़ाने की गति को तेज रखना चाहिए ताकि छात्रों का आकलन स्तर बढ़ सके
3. Keep your teaching slow / अपने शिक्षण को धीमा रखना चाहिए
4. Keep your teaching slow along with some extra guidance to bright students / तीव्रबुद्धि विद्यार्थियों को कुछ अतिरिक्त मार्गदर्शन देने के साथ अपने शिक्षण को धीमा रखना चाहिए

Correct Answer :-

- Keep your teaching slow along with some extra guidance to bright students / तीव्रबुद्धि विद्यार्थियों को कुछ अतिरिक्त मार्गदर्शन देने के साथ अपने शिक्षण को धीमा रखना चाहिए

10) A teacher in the class is:/ कक्षा में एक शिक्षक है:

1. The president of the group /समूह का अध्ययन
2. A director of the group /समूह का निदेशक
3. A leader and guide of the group /समूह का एक अधिनायक और मार्गदर्शक
4. All of the above / उपरोक्त सभी

Correct Answer :-

- A leader and guide of the group /समूह का एक अधिनायक और मार्गदर्शक

11) When you are teaching students who belong to rich families and they are not taking any favorable interest in studies. What remedy would you like to suggest for improvement?/ जब आप अमीर परिवारों से सम्बंधित विद्यार्थियों को पढ़ा रहे और वे अध्ययन में कोई अनुकूल रुचि नहीं ले रहे हैं। आप सुधार के लिए क्या उपाय सुझाएंगे?

1. You will force the parents for private tuition/ आप माता पिता को निजी ट्यूशन के लिए बाध्य करेंगे
2. You will simply tell them students negligence/ आप केवल उन्हें विद्यार्थियों की लापरवाही बताएंगे
3. You will be more vigilant and request their parents to co-operate/ आप और अधिक सावधानी बरतेंगे और उनके माता पिता से सहयोग करने का अनुरोध करेंगे
4. You will try to change their attitudes/ आप उनके दृष्टिकोण को बदलने की कोशिश करेंगे

Correct Answer :-

- You will be more vigilant and request their parents to co-operate/ आप और अधिक सावधानी बरतेंगे और उनके माता पिता से सहयोग करने का अनुरोध करेंगे

12) Find the average of first five multiple of 7. / 7 के प्रथम पांच गुणकों की औसत ज्ञात करें।

1. 21

2. 14

3. 28

4. 25

Correct Answer :-

- 21

13) DIRECTIONS: In the following question, select the related word from the given alternatives./ निर्देश: निम्नलिखित प्रश्न में दिए गए विकल्पों में से सम्बन्धित शब्द को चुनिए।

Newspaper : Reader :: Apple : ?/समाचार पत्र : पाठक :: सेब : ?

1. Wheat /गेहूँ
2. Buyer/खरीददार
3. Consumer / उपभोक्ता
4. Baker/बेकर

Correct Answer :-

- Consumer / उपभोक्ता

14) DIRECTIONS: What should come in place of question mark (?) in the following series?/ निर्देश: निम्नलिखित श्रेणी में प्रश्नवाचक चिन्ह (?) के स्थान पर क्या आना चाहिए?

ABCD, BCDA, CDAB, ? , ABCD

1. BADC
2. DABC
3. DBAC
4. DACB

Correct Answer :-

- DABC

15) If a 'truck' is called 'train', 'train' is called 'tractor', tractor' is called 'ship', 'ship' is called 'aeroplane', 'aeroplane' is called 'bulldozer' and 'bulldozer' is called 'scooter', then which of the following can fly?/ यदि एक 'ट्रक' को 'ट्रेन' कहा जाता है, 'ट्रेन' को 'ट्रैक्टर' कहा जाता है, 'ट्रैक्टर' को 'जहाज' कहा जाता है, 'जहाज' को 'हवाईजहाज' कहा जाता है, 'हवाईजहाज' को 'बुलडोजर' कहा जाता है और 'बुलडोजर' को 'स्कूटर' कहा जाता है तो निम्न में से क्या उड़ सकता है ?

1. Ship/जहाज

2. Aeroplane/हवाईजहाज
3. Bulldozer/ बुलडोजर
4. Tractor/ट्रैक्टर

Correct Answer :-

- Bulldozer/ बुलडोजर

16) DIRECTIONS: What should come in place of question mark (?) in the following question?/ निर्देश: निम्नलिखित प्रश्न में प्रश्नवाचक चिन्ह (?) के स्थान पर क्या आयेगा?

$$200 + 650 \times 260 = ?$$

1. 169,200
2. 186,400
3. 664,250
4. 963,750

Correct Answer :-

- 169,200

17) If a student becomes unconscious during the period, what will you like to do?/ यदि एक विद्यार्थी कालावधि के दौरान बेहोश हो जाता है, तो आप क्या करना चाहेंगे?

1. Hurriedly rushing to the principal's office and canvassing for help impatiently/ शीघ्र ही प्राचार्य के कार्यालय में जाएंगे और अधैर्य रूप में मदद के लिए कहेंगे
2. Giving first aid to the student and try to contact the school's doctor/ विद्यार्थी को प्राथमिक चिकित्सा देंगे और विद्यालय के डॉक्टर से संपर्क करने का प्रयास करेंगे
3. Sending message to student's home and awaiting for his parents/ विद्यार्थी के घर संदेश भेजेंगे और उसके माता पिता का इंतज़ार करेंगे
4. Making arrangements to send the student to his home/ छात्र को उसके घर भेजने की व्यवस्था करेंगे

Correct Answer :-

- Giving first aid to the student and try to contact the school's doctor/ विद्यार्थी को प्राथमिक चिकित्सा देंगे और विद्यालय के डॉक्टर से संपर्क करने का प्रयास करेंगे

18) DIRECTIONS: What should come in place of the question mark (?) in the following number series?/ निर्देश: निम्नलिखित संख्या श्रेणी में प्रश्नवाचक चिन्ह (?) के स्थान पर क्या आना चाहिए?

$$200, 231, 264, 299, 336, ?$$

1. 355
2. 365
3. 375
4. 395

Correct Answer :-

- 375

19) DIRECTIONS: Select the one which is different from the other three responses./निर्देश: उस विकल्प का चयन करें जो अन्य तीनों से भिन्न है।

1. Nut/ नट
2. Plate/ थाली
3. Tyre/ टायर
4. Bangle/ चूड़ी

Correct Answer :-

- Plate/ थाली

20) If a poor student is unable to deposit his monthly fees in time, what will you do in this condition?/ यदि एक गरीब विद्यार्थी समय पर अपना मासिक शुल्क जमा करने में असमर्थ है, तो आप इस स्थिति में क्या करेंगे?

1. Strike off his name and deprive him from class/ उसका नाम हटा देंगे और उसे कक्षा से वंचित रखेंगे
2. You deposit his fees and give him opportunity to join the classes/ आप उसका शुल्क जमा कर देंगे और उसे कक्षा में शामिल होने का अवसर देंगे
3. Making mockery of the poor fellow/ गरीब व्यक्ति का मजाक उड़ाएँगे
4. No sympathy with the student on economic matters/ आर्थिक मामलों में विद्यार्थी के साथ कोई सहानुभूति नहीं

Correct Answer :-

- You deposit his fees and give him opportunity to join the classes/ आप उसका शुल्क जमा कर देंगे और उसे कक्षा में शामिल होने का अवसर देंगे

21) If you would be a teacher, how would you like to behave with your students?/ यदि आप एक शिक्षक होते, तो आप अपने विद्यार्थियों के साथ किस प्रकार व्यवहार करना पसंद करते?

1. Autocratic/ निरंकुश

2. Democratic/ लोकतांत्रिक
3. Laissez-faire/ अहस्तक्षेप
4. As the conditions permit/ शर्तों की अनुमति के अनुसार

Correct Answer :-

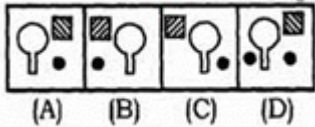
- Democratic/ लोकतांत्रिक

22) Which of the answer figure is exactly the mirror image of the given problem figure, when the mirror is held at MR?/ निम्न में से कौन सी उत्तर आकृति, दी गयी प्रश्न आकृति की सही दर्पण प्रतिबिम्ब होगी, जब दर्पण को MR पर रखा गया है?

Problem Figure / प्रश्न आकृति



Answer Figure / उत्तर आकृति



1. A
2. B
3. C
4. D

Correct Answer :-

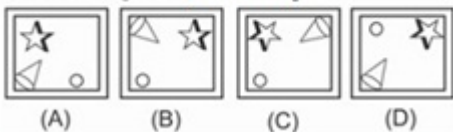
- B

23) Which answer figure will complete the pattern of the question figure?/ निम्न में से कौन सी उत्तर आकृति, प्रश्न आकृति को पूर्ण करेगी?

Question Figure: / प्रश्न आकृति



Answer Figure: / उत्तर आकृति



1. A
2. B
3. C

4. D

Correct Answer :-

- D

24) DIRECTIONS: In question given below, there are two statements followed by two conclusions numbered I and II. You have to take the given statements to be true even if they seem to be at variance with the commonly known facts and then decide which of the given conclusions logically follows from the two given statements, disregarding commonly known facts./निर्देश: नीचे दिए गए प्रश्न में दो कथन और उसके बाद दो निष्कर्ष I और II दिए गए हैं। आपको दिए गए दोनों कथनों को सत्य मानना है भले ही वे सर्वज्ञात तथ्यों से भिन्न प्रतीत होते हों। सभी निष्कर्षों को पढ़िए फिर तय कीजिए कि दिए गए निष्कर्षों में से कौन -सा निष्कर्ष दिए गए कथनों का तर्कसंगत रूप से अनुसरण करता है, चाहे सर्वज्ञात तथ्य कुछ भी हों।

Statements:/ कथन:

All lawyers are cheater./सभी वकील धोखेबाज हैं।

Some men are lawyer./कुछ आदमी वकील हैं।

Conclusions: /निष्कर्ष:

I. Some men are cheater./कुछ आदमी धोखेबाज हैं।

II. All cheater are men./सभी धोखेबाज आदमी हैं।

1. If only Conclusion I follows/ यदि केवल निष्कर्ष I अनुसरण करता है
2. If only Conclusion II follows/यदि केवल निष्कर्ष II अनुसरण करता है
3. If both conclusions I and II follow/ यदि निष्कर्ष I और II दोनों अनुसरण करते हैं
4. If neither Conclusion I nor II follows/ यदि ना तो निष्कर्ष I नही निष्कर्ष II अनुसरण करता है।

Correct Answer :-

- If only Conclusion I follows/ यदि केवल निष्कर्ष I अनुसरण करता है

25) DIRECTIONS: Select the one which is different from the other three responses./निर्देश: उस विकल्प का चयन करें जो अन्य तीनों से भिन्न है।

1. Bake/ सेंकना
2. Peel/छिलना
3. Fry/तलना
4. Carrot /गाजर

Correct Answer :-

- Peel/छिलना

26) If the radius of a circle is increased by 50%, its area is increased by: / यदि किसी वृत्त की त्रिज्या में 50% की वृद्धि कर दी जाए, तो उसके क्षेत्रफल में वृद्धि होगी:

1. 125%
2. 100%
3. 75%
4. 50%

Correct Answer :-

- 125%

27) If '-' stands for addition, '÷' for multiplication, '×' for subtraction and '+' for division, then which one of the following is correct? / यदि '-' जोड़ को दर्शाता है, '÷' गुणा को दर्शाता है, '×' घटाव को दर्शाता है और '+' भाग को दर्शाता है, तो निम्न में से कौन सा सही है?

1. $25 - 15 + 5 \div 4 \times 16 = 21$
2. $25 + 11 - 4 \div 10 \times 6 = 21$
3. $25 \times 12 - 14 \div 4 + 6 = 16$
4. $25 - 15 + 14 \div 2 \times 4 = 15$

Correct Answer :-

- $25 - 15 + 5 \div 4 \times 16 = 21$

28) DIRECTIONS: Arrange the following in a logical order: / निर्देश: निम्न को एक अर्थपूर्ण क्रम में व्यवस्थित करें।

1. Uttar Pradesh/उत्तर प्रदेश
2. Universe/ब्रम्हांड
3. Lucknow/लखनऊ
4. India/हिंदुस्तान

1. 1, 2, 4, 3
2. 1, 3, 2, 4
3. 3, 1, 4, 2
4. 3, 4, 1, 2

Correct Answer :-

- 3, 1, 4, 2

29) Generally the students have throat-cut competition to sit on front benches in the class. To overcome this problem you will be making seating arrangements. What will be the rationale of seat allocation to the students?/ सामान्यतः विद्यार्थियों में कक्षा में सामने वाली बेंच पर बैठने की कड़ी प्रतिस्पर्धा होती है। इस समस्या से निपटने के लिए आपको बैठक व्यवस्था बनानी है। विद्यार्थियों को सीट आवंटित करने के लिए क्या तर्क होगा?

1. The age and height of the students/ विद्यार्थियों की आयु और ऊँचाई
2. The personal relationship with the students/ विद्यार्थियों के साथ व्यक्तिगत संबंध
3. The mental level of the students/ विद्यार्थियों का मानसिक स्तर
4. The economic and social status of the students/ विद्यार्थियों की आर्थिक और सामाजिक स्थिति

Correct Answer :-

- The age and height of the students/ विद्यार्थियों की आयु और ऊँचाई

30) DIRECTIONS: What should come in place of question mark (?) in the following number series?/ निर्देश: निम्नलिखित संख्या श्रेणी में प्रश्नवाचक चिन्ह (?) के स्थान पर क्या आना चाहिए?

96, 107, 129, 162, 206, ?

1. 258
2. 261
3. 256
4. 260

Correct Answer :-

- 261

Topic:- BA.B.SC.B.ED.Language Proficiency

1) DIRECTIONS: A sentence with an underlined word is given below. Find the word which is most similar in meaning to the underlined word.

The judge said that the teacher had been negligent in allowing the children to swim in dangerous water.

1. wise
2. careful
3. careless
4. brave

Correct Answer :-

- careless

2) DIRECTIONS: Fill in the blank with the correct option.

Many of the TV programmes _____ with subtitles for the deaf.

1. are broadcast
2. is broadcast
3. has been broadcasted
4. is broadcasted

Correct Answer :-

- are broadcast

3) DIRECTIONS: Fill in the blank with the correct option.

Water _____ to ice at a temperature of 0°C

1. freezes
2. freeze
3. have frozen
4. are frozen

Correct Answer :-

- freezes

4) DIRECTIONS: Fill in the blank with the correct option.

Oil and water _____ mix. Even if you shake them together they separate into two layers.

1. don't
2. doesn't
3. does
4. do

Correct Answer :-

- don't

5) DIRECTIONS: Fill in the blank with the correct option.

I _____ my public life and my private life, and as far as possible I try to keep them separate.

1. have
2. has
3. am
4. None of the above

Correct Answer :-

- have

6) DIRECTIONS: In the given question a sentence is given with a blank, and the blank is followed by a word in bracket. The word has to be joined with any one of the prefixes given as options and filled in the blank to make it meaningfully complete.

The sun _____(appeared) behind heavy clouds.

1. dis
2. un
3. il
4. in

Correct Answer :-

- dis

7) DIRECTIONS: In the given question a sentence is given with a blank, and the blank is followed by a word in bracket. The word has to be joined with any one of the prefixes given as options and filled in the blank to make it meaningfully complete.

It would be _____ (practical) to train so many people in one session.

1. im
2. in
3. il
4. dis

Correct Answer :-

- im

8)

DIRECTIONS: A sentence with an underlined word is given below. Find the word which is most similar in meaning to the underlined word.

Some scientists believe that there is about ten times as much matter in the universe as astronomers have observed.

1. cleaned
2. noticed
3. thrown
4. kept

Correct Answer :-

- noticed

9) DIRECTIONS: A sentence with an underlined word is given below. Find the word which is opposite to the highlighted word from the given options.

The problem of poverty is particularly acute in rural areas.

1. shortage
2. sickness
3. illiteracy
4. richness

Correct Answer :-

- richness

10) DIRECTIONS: Fill in the blank with the appropriate option.

'An army of soldiers' is an example of a/an _____.

1. Abstract Noun
2. Collective Noun
3. Proper Noun
4. Common Noun

Correct Answer :-

- Collective Noun

11) DIRECTIONS: Fill in the blank with the appropriate option.

The plural of 'thief' is _____.

1. thieves
2. thieves
3. thief's
4. thiefes

Correct Answer :-

- thieves

12) DIRECTIONS: Out of the given options, choose the most appropriate Preposition to fill in the blank.

Sandra is staying _____ her Grandparents for a few months.

1. of
2. from
3. by
4. with

Correct Answer :-

- with

13) DIRECTIONS: Out of the given options, choose the most appropriate Preposition to fill in the blank.

It's difficult _____ a small supermarket to compete with the big supermarkets.

1. for
2. of
3. from
4. by

Correct Answer :-

- for

14) DIRECTIONS: Fill in the blanks with the correct set of articles from the options given below.

The Taj Mahal is situated on _____ banks of _____ Yamuna river in Agra.

1. the, the
2. the, a

3. the, an

4. a, the

Correct Answer :-

- the, the

15) DIRECTIONS: Fill in the blank with the correct article from the options given below.

The Brahmaputra is one of _____ major rivers of Asia.

1. the

2. a

3. an

4. No article required

Correct Answer :-

- the

16) विशेषण का उपयोग निम्नलिखित में से किसके बिना नहीं हो सकता:

1. विराम-चिह्न

2. कर्ता

3. क्रिया

4. संज्ञा

Correct Answer :-

- संज्ञा

17) 'उन्नति' का संधि-विच्छेद होगा:

1. उप् + नति

2. उन् + नति

3. उन्न + ति

4. उत् + नति

Correct Answer :-

- उत् + नति

18) द्वंद्व समास के भेद हैं:

1. 7
2. 6
3. 5
4. 3

Correct Answer :-

- 3

19) 'वह जो न करे, सो थोड़ा' वाक्य में है :

1. निजवाचक सर्वनाम
2. निश्चयवाचक सर्वनाम
3. पुरुषवाचक सर्वनाम
4. संबंधवाचक सर्वनाम

Correct Answer :-

- संबंधवाचक सर्वनाम

20) निम्नलिखित में किस शब्द में उर्दू उपसर्ग है:

1. अनमोल
2. प्रख्यात
3. प्रतिकूल
4. नाराज

Correct Answer :-

- नाराज

21) का शाब्दिक अर्थ है- 'भाव को विशेष रूप से प्रवर्तित करने वाला':

1. स्थायी भाव
2. अनुभाव
3. व्यभिचारी भाव
4. विभाव

Correct Answer :-

- विभाव

22) 'आर्द्र' का विलोम है:

1. गीला
2. पुष्ट
3. ग्रीष्म
4. शुष्क

Correct Answer :-

- शुष्क

23) निम्नलिखित में कौन-सा शब्द शुद्ध है:

1. प्रदर्शिनी
2. पहिला
3. पौरुषत्व
4. नियंता

Correct Answer :-

- नियंता

24) निम्नलिखित में 'विधिसूचक' वाक्य है :

1. मैंने एक वर्ष तक उसकी प्रतीक्षा की
2. मुझे खेद है, मित्र
3. एक क्षण के लिए वह हतप्रभ हो गया
4. अध्यापक को पढ़ाना चाहिए

Correct Answer :-

- अध्यापक को पढ़ाना चाहिए

25) 'अमावट' में प्रत्यय है:

1. मावट
2. वट
3. ट
4. आवट

Correct Answer :-

- आवट

26) देवनागरी वर्णमाला में 'ऋ' है:

1. संकर व्यंजन
2. संयुक्ताक्षर
3. व्यंजन
4. स्वर

Correct Answer :-

- स्वर

27) 'बहन' है:

1. समूहवाचक संज्ञा
2. भाववाचक संज्ञा
3. व्यक्तिवाचक संज्ञा
4. जातिवाचक संज्ञा

Correct Answer :-

- जातिवाचक संज्ञा

28) 'कहीं की ईंट कहीं का रोड़ा भानुमति ने कुनबा जोड़ा' लोकोक्ति का आशय है:

1. राजनीति करना
2. व्यर्थ की वस्तुओं से महल खड़ा करना
3. बेकार की चीजों का सार्थक प्रयोग करना
4. इधर-उधर की अनमेल वस्तुओं को एकत्र करना

Correct Answer :-

- इधर-उधर की अनमेल वस्तुओं को एकत्र करना

29) निम्नलिखित में आकाश का पर्यायवाची नहीं है:

1. ख
2. दुयलोक
3. व्योम
4. अंबुज

Correct Answer :-

- अंबुज

30) निम्नांकित में तद्भव शब्द है:

1. आम्र
2. क्षेत्र
3. क्षीर
4. थन

Correct Answer :-

- थन