

PROFESSIONAL EXAMINATION BOARD
Platoon Commander (Home Guard) Selection Test : 2016

27th November 2016, 09:00 AM

Topic:- English

1)

Question Stimulus :-

DIRECTIONS: Find the Word which is most similar to the given word.

Summit

- Peak
- Base
- Bottom
- Shallow

Correct Answer :-Peak

2)

Question Stimulus :-

Fill in the blank with the correct conjunction.

I have the greatest respect for his ideas, _____ I don't agree with them.

- because
- although
- hence
- since

Correct Answer :-although

3)

Question Stimulus :-

Fill in the blank with the correct option.

The air was clear and fresh, _____ all the traffic.

- because of
- in spite of
- according to
- even though

Correct Answer :-in spite of

4)

Question Stimulus :-

DIRECTIONS: Find the word which is opposite to the given word.

Poverty

- Affection
- Adversity
- Wealth
- Misery

Correct Answer :-Wealth

5)

Question Stimulus :-

Fill in the blank with the correct conjunction.

_____ the room is big, it won't hold all that furniture.

- But
- Hence
- Because
- Although

Correct Answer :-Although

6)

Question Stimulus :-

Fill in the blank with the correct article.

Slow and steady wins _____ race.

- a
- an
- the
- No article required

Correct Answer :-the

7)

Question Stimulus :-

DIRECTIONS: Find the word which is opposite to the given word.

Wisdom

- Intelligence
- Beauty
- Folly
- Vigour

Correct Answer :-Folly

8)

Question Stimulus :-

DIRECTIONS: The first and the last parts of the sentence are marked 1 and 6. The rest of the sentence is split into four parts and marked P, Q, R and S. These four parts are not given in their proper order. Read the sentences and find out which of the four combinations is correct.

1. Photosynthesis is the process

P. from carbon dioxide and water

Q. by which green plants and some other organisms

R. use sunlight to synthesize nutrients

S. Photosynthesis in plants generally involves the green pigment chlorophyll

6. and generates oxygen as a by-product.

- QRPS
- PSRQ
- SRPQ
- RPSQ

Correct Answer :-QRPS

9)

Question Stimulus :-

DIRECTIONS: In the following question a part of the sentence may have an error. Find out which part of a sentence has an error and mark your answer accordingly. If there is no error, mark (d) 'No error' as your answer.

Students are not allowed to (a)/ handle these chemicals (b)/ unless they are under the supervision of a teacher. (c)/ No Error (d)

- (a)
- (b)
- (c)
- (d)

Correct Answer :-(d)

10)

Question Stimulus :-

DIRECTIONS: The first and the last parts of the sentence are marked 1 and 6. The rest of the sentence is split into four parts and marked P, Q, R and S. These four parts are not given in their proper order. Read the sentences and find out which of the four combinations is correct.

1. Malnutrition is the condition

P. of the vitamins, minerals

Q. that develops when the body

R. and other nutrients it needs

S. does not get the right amount

6. to maintain healthy tissues and organ function.

- PSQR
- SQRP
- RQPS
- QSPR

Correct Answer :-QSPR

11)

Question Stimulus :-

DIRECTIONS: In the following question a part of the sentence may have an error. Find out which part of a sentence has an error and mark your answer accordingly. If there is no error, mark (d) 'No error' as your answer.

All of us have been (a)/ trying to convince her (b)/ since a week. (c)/ No Error (d)

- (a)
- (b)
- (c)
- (d)

Correct Answer :-(c)

12)

Question Stimulus :-

Fill in the blank with the correct option.

His marks in English _____ below average this year.

- has been
- is being
- was being
- have been

Correct Answer :-have been

13)

Question Stimulus :-

Fill in the blank with the correct option.

The students stayed _____ days in London and visited all the museums.

- few
- a few
- the few
- a little

Correct Answer :-a few

14)

Question Stimulus :-

DIRECTIONS: In the following question a part of the sentence may have an error. Find out which part of a sentence has an error and mark your answer accordingly. If there is no error, mark (d) 'No error' as your answer.

We got caught (a)/ in pouring rain (b)/ without either raincoats nor umbrellas. (c)/ No Error (d)

- (a)
- (b)
- (c)
- (d)

Correct Answer :- (c)

15)

Question Stimulus :-

Fill in the blank with the correct option.

We _____ allow the work to continue beyond the end of the year

- should not have
- cannot
- ought to

- should have

Correct Answer :-cannot

16)

Question Stimulus :-

DIRECTIONS: In the following question, there are four different words out of which one is wrongly spelt. Find the wrongly spelt word.

- Efficient
- Horrible
- Insignificant
- Barren

Correct Answer :-Efficient

17)

Question Stimulus :-

DIRECTIONS: The first and the last parts of the sentence are marked 1 and 6. The rest of the sentence is split into four parts and marked P, Q, R and S. These four parts are not given in their proper order. Read the sentences and find out which of the four combinations is correct.

1. Anaemia refers

P. of circulating red blood cells

Q. to a decreased number

R. and is the most common blood disorder

S. Symptoms can include

6. headaches, chest pains, and a paleness of skin.

- PSQR
- SPQR
- QPRS
- RQSP

Correct Answer :-QPRS

18)

Question Stimulus :-

DIRECTIONS: The first and the last parts of the sentence are marked 1 and 6. The rest of the sentence is split into four parts and marked P, Q, R and S. These four parts are not given in their proper order. Read the sentences and find out which of the four combinations is correct.

1. Fossil fuels

P. Because fossil fuels - oil, natural gas, and coal - take so long to form

Q. over millions of years

R. are sources of energy

S. that have developed within the earth

6. they are considered non-renewable.

- PRQS
- RSQP
- QPSR
- SPQR

Correct Answer :-RSQP

19)

Question Stimulus :-

DIRECTIONS: In the following question a part of the sentence may have an error. Find out which part of a sentence has an error and mark your answer accordingly. If there is no error, mark (d) 'No error' as your answer.

The cost should be (a)/ shared equally (b)/ between the three of you. (c)/ No Error (d)

- (a)
- (b)
- (c)
- (d)

Correct Answer :- (c)

20)

Question Stimulus :-

DIRECTIONS: Find the Word which is most similar to the given word.

Brave

- Courageous
- Coward
- Miser
- Extravagant

Correct Answer :-Courageous

21)

Question Stimulus :-

DIRECTIONS: In the following question a part of the sentence may have an error. Find out which part of a sentence has an error and mark your answer accordingly. If there is no error, mark (d) 'No error' as your answer.

Hardly had the teacher (a)/ left the room (b)/ than the pupils started enjoying. (c)/ No Error (d)

- (a)
- (b)
- (c)
- (d)

Correct Answer :-(c)

22)

Question Stimulus :-

Fill in the blank with the correct option.

Our friend speaks _____ Spanish, so we were able to find a nice room in Madrid.

- a few
- the little
- little
- a little

Correct Answer :-a little

23)

Question Stimulus :-

Fill in the blank with the correct preposition.

I always like to leave my desk clear _____ the end of the day.

- for
- from
- at
- into

Correct Answer :-at

24)

Question Stimulus :-

Fill in the blank with the correct prepositions.

The table has a plastic coating which prevents liquids _____ permeating _____ the wood beneath.

- into, on
- for, off
- from, into
- for, by

Correct Answer :-from, into

25)

Question Stimulus :-

DIRECTIONS: The first and the last parts of the sentence are marked 1 and 6. The rest of the sentence is split into four parts and marked P, Q, R and S. These four parts are not given in their proper order. Read the sentences and find out which of the four combinations is correct.

1. The Quit India Movement or the India August Movement ,

P. on 8 August 1942, during World War II

Q. was a civil disobedience movement

R. or more simply by Mohandas Karamchand Gandhi

S. launched at the Bombay session of the All-India Congress Committee

6. demanding an end to British Rule of India.

- PRSQ
- RSQP
- QSRP
- SRQP

Correct Answer :-QSRP

Topic:- RC_English

1)

Question Stimulus :-

DIRECTIONS: Read the following passage carefully and answer the questions given below it.

Terrorism means the policy of striking terror in the minds of the people by violent methods to achieve some ends. It is a law of the jungle to use muscle power and force to get things done. It is a barbarian act. Of late, terrorism has become the order of the day. People who are disgruntled and who are unable to get their desires fulfilled by normal and accepted methods in society are resorting to terrorism. Some other causes for which terrorism is resorted to may be genuine like a protest from people to come out of bondage or fight for freedom. Even such causes do not support terrorism, when there are other channels and methods to solve the problem.

What is the meaning of the expression 'striking terror in the minds of the people' in the opening line of the passage?

- Encouraging someone
- Making someone extremely frightened
- Making fun of someone
- None of the above

Correct Answer :-Making someone extremely frightened

2)

Question Stimulus :-

DIRECTIONS: Read the following passage carefully and answer the questions given below it.

Terrorism means the policy of striking terror in the minds of the people by violent methods to achieve some ends. It is a law of the jungle to use muscle power and force to get things done. It is a barbarian act. Of late, terrorism has become the order of the day. People who are disgruntled and who are unable to get their desires fulfilled by normal and accepted methods in society are resorting to terrorism. Some other causes for which terrorism is resorted to may be genuine like a protest from people to come out of bondage or fight for freedom. Even such causes do not support terrorism, when there are other channels and methods to solve the problem.

What does the author intend to say by the line, ‘Of late, terrorism has become the order of the day’?

- Terrorism is rarely seen in recent days
- Terrorism or acts of terrorism have become very common or usual in recent times
- Terrorism is diminishing or disappearing
- None of the above

Correct Answer :-Terrorism or acts of terrorism have become very common or usual in recent times

3)

Question Stimulus :-

DIRECTIONS: Read the following passage carefully and answer the questions given below it.

Terrorism means the policy of striking terror in the minds of the people by violent methods to achieve some ends. It is a law of the jungle to use muscle power and force to get things done. It is a barbarian act. Of late, terrorism has become the order of the day. People who are disgruntled and who are unable to get their desires fulfilled by normal and accepted methods in society are resorting to terrorism. Some other causes for which terrorism is resorted to may be genuine like a protest from people to come out of bondage or fight for freedom. Even such causes do not support terrorism, when there are other channels and methods to solve the problem.

Who are turning to or adopting terrorism?

- People who want to gain name and fame
- People who want to become wealthy
- People who are angry or dissatisfied and their wishes are not fulfilled
- None of the above

Correct Answer :-People who are angry or dissatisfied and their wishes are not fulfilled

4)

Question Stimulus :-

DIRECTIONS: Read the following passage carefully and answer the questions given below it.

Terrorism means the policy of striking terror in the minds of the people by violent methods to achieve some ends. It is a law of the jungle to use muscle power and force to get things done. It is a barbarian act. Of late, terrorism has become the order of the day. People who are disgruntled and who are unable to get their desires fulfilled by normal and accepted methods in society are resorting to terrorism. Some other causes for which terrorism is resorted to may be genuine like a protest from people to come out of bondage or fight for freedom. Even such causes do not support terrorism, when there are other channels and methods to solve the problem.

What is the meaning of the phrase 'law of the jungle'?

- That those who are strong will be most successful in getting their things done
- That those who are illiterate are the worst
- That those who are terrorists are most powerful and wealthy
- None of the above

Correct Answer :-That those who are strong will be most successful in getting their things done

5)

Question Stimulus :-

DIRECTIONS: Read the following passage carefully and answer the questions given below it.

Terrorism means the policy of striking terror in the minds of the people by violent methods to achieve some ends. It is a law of the jungle to use muscle power and force to get things done. It is a barbarian act. Of late, terrorism has become the order of the day. People who are disgruntled and who are unable to get their desires fulfilled by normal and accepted methods in society are resorting to terrorism. Some other causes for which terrorism is resorted to may be genuine like a protest from people to come out of bondage or fight for freedom. Even such causes do not support terrorism, when there are other channels and methods to solve the problem.

What is the meaning of the word 'barbarian'?

- Civilized
- Uncivilized
- Sophisticated
- Cultured

Correct Answer :-Uncivilized

Topic:- Hindi

1)

Question Stimulus :-

रसयुक्त वाक्य ही है।

- अनुभूति
- भावानुभूति
- काव्य
- संयोग श्रृंगार

Correct Answer :-काव्य

2)

Question Stimulus :-

‘अंध-विश्वास’ का तात्पर्य है:

- बिना सोचे-समझे किसी बात को मान लेना
- किसी का अंध-समर्थन करना
- किसी पर अत्यधिक विश्वास करना
- अँधा होकर विश्वास करना

Correct Answer :-बिना सोचे-समझे किसी बात को मान लेना

3)

Question Stimulus :-

‘कुंदन’ और ‘हेम’ पर्यायवाची हैं:

- हिमालय के
- निहारिका के
- स्वर्ण के
- अंतरिक्ष के

Correct Answer :-स्वर्ण के

4)

Question Stimulus :-

सामासिक शब्दों में मिले हुए शब्दों को पृथक करने की प्रक्रिया कहलाती है:

- समास-विच्छेद
- समास-विग्रह
- सामासिक-सौन्दर्य
- समास का परिमार्जन

Correct Answer :-समास-विग्रह

5)

Question Stimulus :-

पूर्वी हिंदी के अंतर्गत आती है:

- अवधी
- बघेली
- छत्तीसगढ़ी
- उक्त सभी

Correct Answer :-उक्त सभी

6)

Question Stimulus :-

‘यदि वह आता तो मैं चला जाता’- वाक्य है:

- संकेतवाचक
- संदेहवाचक
- विधानवाचक
- उपर्युक्त में से कोई नहीं

Correct Answer :-संकेतवाचक

7)

Question Stimulus :-

किसी सूत्र के भाव-विस्तार की प्रक्रिया में:

- समास शैली अपनायी जाती है
- व्यास शैली अपनायी जाती है
- रचना के मूलभूत अर्थ-क्षेत्र में संकोच किया जाता है
- उपर्युक्त में से कोई नहीं

Correct Answer :-व्यास शैली अपनायी जाती है

8)

Question Stimulus :-

‘अगोचर’ का आशय है:

- जो देखा न जा सके

- इन्द्रियातीत
- अप्रकट
- उक्त सभी

Correct Answer :-

उक्त सभी

9)

Question Stimulus :-

रस के अंग हैं:

- नौ
- आठ
- सात
- चार

Correct Answer :-चार

10)

Question Stimulus :-

‘जो सब जानता है’- उसे कहते हैं:

- बहुज्ञ
- सर्वज्ञ
- विज्ञ
- परम्-ज्ञानी

Correct Answer :-सर्वज्ञ

11)

Question Stimulus :-

“मैं सुकुमारि नाथ बन जोगू, तुम्हहि उचित तप मो कहुँ भोगू”-में है:

- वक्रोक्ति अलंकार
- अन्योक्ति अलंकार
- व्यतिरेक अलंकार
- विभावना अलंकार

Correct Answer :-वक्रोक्ति अलंकार

12)

Question Stimulus :-

भारत के संविधान में हिंदी को 'राजभाषा' के रूप में मान्यता मिली:

- 26 जनवरी 1950
- 14 नवंबर 1949
- 14 सितंबर 1949
- 14 सितंबर 1950

Correct Answer :-14 सितंबर 1949

13)

Question Stimulus :-

'मधुशाला' है:

- मुक्तककाव्य
- प्रबंधकाव्य
- महाकाव्य
- खंडकाव्य

Correct Answer :-मुक्तककाव्य

14)

Question Stimulus :-

जिस वाक्य से किसी क्रिया के करने या होने का बोध होता है; वह है:

- आज्ञावाचक वाक्य
- इच्छावाचक वाक्य
- विधानवाचक वाक्य
- संयुक्त वाक्य

Correct Answer :-विधानवाचक वाक्य

15)

Question Stimulus :-

'अतएव' शब्द में संधि है:

- विसर्ग संधि

- व्यंजन संधि
- स्वर संधि
- उक्त में से कोई नहीं

Correct Answer :-

विसर्ग संधि

16)

Question Stimulus :-

कौन-सा छंद दोहा और रोला छंद से मिलकर बनता है?

- उल्लाला
- सवैया
- कुंडलिया
- घनाक्षरी

Correct Answer :-कुंडलिया

17)

Question Stimulus :-

‘लोकोक्ति पूर्ण होती है जबकि मुहावरा वाक्यांश होता है’- कथन है:

- सत्य
- असत्य
- विवादास्पद
- अतार्किक

Correct Answer :-सत्य

18)

Question Stimulus :-

जहाँ किसी बात को प्रत्यक्ष न कहकर अप्रत्यक्ष रूप से कहते हैं-वहाँ होता है:

- अतिशयोक्ति अलंकार
- अन्योक्ति अलंकार
- संदेह अलंकार
- पुनरुक्तिप्रकाश अलंकार

Correct Answer :-अन्योक्ति अलंकार

19)

Question Stimulus :-

‘खेत रहना’ मुहावरे का अर्थ है:

- खेत गिरवी रखना
- खेत में ओले पड़ना
- शहीद होना
- खेत की फसल खराब होना

Correct Answer :-शहीद होना

20)

Question Stimulus :-

‘पतंग’ के अर्थ हैं:

- सूर्य, पक्षी
- शलभ, टिड्डी
- चिनगारी, धागे से बाँधकर उड़ाया जाने वाला कागज़ का खिलौना
- उक्त सभी

Correct Answer :-उक्त सभी

21)

Question Stimulus :-

जिस क्षेत्र में जो भाषा बोली जाती है, वह भाषा व्यापक रूप से उस क्षेत्र की।

- मानक भाषा कही जाती है
- उपमानक भाषा कही जाती है
- मातृभाषा कही जाती है
- संचार भाषा कही जाती है

Correct Answer :-मातृभाषा कही जाती है

22)

Question Stimulus :-

‘संक्षिप्तिकरण’ का विलोम है:

- समासीकरण

- पल्लवन
- अनुच्छेद लेखन
- प्रारूपण

Correct Answer :-पल्लवन

23)

Question Stimulus :-

‘जयद्रथ वध’ है:

- महाकाव्य
- खंडकाव्य
- गीतिकाव्य
- प्रगीत

Correct Answer :-खंडकाव्य

24)

Question Stimulus :-

‘COMPUTER’ का हिंदी पारिभाषिक शब्द है:

- गणन-कल
- गणक
- संगणक
- गणनाकार

Correct Answer :-संगणक

25)

Question Stimulus :-

खड़ी बोली का प्रथम महाकाव्य है:

- कामायनी
- साकेत
- प्रियप्रवास
- कृष्णायन

Correct Answer :-प्रियप्रवास

26)

Question Stimulus :-

रचना के आधार पर वाक्य के प्रकार हैं:

- दो
- तीन
- चार
- पाँच

Correct Answer :-तीन

27)

Question Stimulus :-

'राम पुस्तक पढ़ रहा है' वाक्य को संदेहवाचक वाक्य में बदलने पर होगा:

- राम पुस्तक नहीं पढ़ रहा है
- राम पुस्तक पढ़ो
- अच्छा! राम पुस्तक पढ़ रहा है
- शायद राम पुस्तक पढ़ रहा है

Correct Answer :-शायद राम पुस्तक पढ़ रहा है

28)

Question Stimulus :-

निम्नांकित में सही वाक्य है:

- वह आटा पीस रहा है
- दही जम गया है
- ईश्वर के अनेकों नाम हैं
- उपर्युक्त में से कोई नहीं

Correct Answer :-उपर्युक्त में से कोई नहीं

29)

Question Stimulus :-

'जुगुप्सा' किस रस का स्थायी भाव है?

- भयानक रस
- अद्भुत रस
- रौद्र रस

- वीभत्स रस

Correct Answer :-वीभत्स रस

30)

Question Stimulus :-

‘विशेषाधिकार’ के लिए अँग्रेजी पारिभाषिक शब्द है:

- Specific Rights
- Important Rights
- Fundamental Rights
- Privilege

Correct Answer :-Privilege

31)

Question Stimulus :-

निम्नांकित में कौन-सा विकल्प शब्द-युग्म है?

- प्रतिभा-प्रतिमा
- चाय-वाय
- लोभ-लालच
- उक्त सभी

Correct Answer :-उक्त सभी

32)

Question Stimulus :-

‘ना मारा ना खून किया; बीसों का सिर काट दिया’-किसकी पहेली है?

- जगनिक
- अमीर खुसरो
- सूर्यमल्ल मिश्र
- जायसी

Correct Answer :-अमीर खुसरो

33)

Question Stimulus :-

हरिसिंह गौर विश्वविद्यालय, सागर से प्रकाशित पत्रिका है:

- साक्षात्कार
- आस-पास
- वीणा
- ईसुरी

Correct Answer :-ईसुरी

34)

Question Stimulus :-

‘दशानन’ किस समास का उदाहरण है:

- तत्पुरुष
- द्वंद्व
- बहुब्रीहि
- अव्ययीभाव

Correct Answer :-बहुब्रीहि

35)

Question Stimulus :-

मध्यप्रदेश हिंदी ग्रंथ अकादमी से प्रकाशित पत्रिका है:

- रचना
- स्नेह
- राग भोपाली
- नव साहित्यकार

Correct Answer :-रचना

36)

Question Stimulus :-

किस समास में प्रथम पद संख्यावाचक और अंतिम पद संज्ञा होता है?

- द्विगु समास में
- द्वंद्व समास में
- कर्मधारय समास में
- बहुब्रीहि समास में

Correct Answer :-द्विगु समास में

37)

Question Stimulus :-

निम्नांकित में कौन-सा विकल्प समोच्चरित भिन्नार्थक नहीं है?

- अंस-अंश
- उपयोग-उपभोग
- अविराम-अभिराम
- काँव-काँव

Correct Answer :-

काँव-काँव

38)

Question Stimulus :-

इंदौर से प्रकाशित बाल पत्रिका है:

- पहल
- वसुधा
- अक्षरा
- देवपुत्र

Correct Answer :-देवपुत्र

39)

Question Stimulus :-

'रंग में भंग' आख्यानक गीत रचित है:

- सुभद्राकुमारी चौहान द्वारा
- सूर्यकांत त्रिपाठी 'निराला' द्वारा
- मैथिलीशरण गुप्त द्वारा
- धूमिल द्वारा

Correct Answer :-मैथिलीशरण गुप्त द्वारा

40)

Question Stimulus :-

निम्नांकित में सही वाक्य है:

- प्रसाद ने 'कामायनी' नामक ग्रंथ का निर्माण किया
- प्रसाद ने 'कामायनी' नामक ग्रंथ की रचना की
- प्रसाद ने 'कामायनी' नामक ग्रंथ की सृष्टि की
- प्रसाद ने 'कामायनी' नामक ग्रंथ को बनाया

Correct Answer :-प्रसाद ने 'कामायनी' नामक ग्रंथ की रचना की

41)

Question Stimulus :-

..... के प्रयोग से भाषा में सरलता, सरसता, चमत्कार और प्रवाह उत्पन्न होता है।

- मुहावरे और लोकोक्ति
- मुहावरे
- लोकोक्ति
- अलंकार

Correct Answer :-मुहावरे और लोकोक्ति

42)

Question Stimulus :-

'अंधेर नगरी चौपट राजा' लोकोक्ति से आशय है:

- शहर में अंधेरा होने पर राज-काज चौपट हो जाता है
- कुप्रशासन और अजागरूक जनता
- अशिक्षा का अंधकार राज-काज नष्ट कर देता है
- अव्यवस्था के अंधेरे में राजा मनमानी करता है

Correct Answer :-कुप्रशासन और अजागरूक जनता

43)

Question Stimulus :-

निम्नांकित में से कौन-सा ध्वन्यात्मक शब्द-युग्म है?

- देव-दैव
- झन-झन
- अलि-अली
- जरा-ज़रा

Correct Answer :-झन-झन

44)

Question Stimulus :-

निम्नांकित में से कौन-सा विकल्प विलोमार्थी नहीं है?

- ह्रस्व-दीर्घ
- मान-अभिमान
- पक्ष-विपक्ष
- गमन-आगमन

Correct Answer :-मान-अभिमान

45)

Question Stimulus :-

किसी काव्य या रचना के, विशेष रूप से सरल और सुबोध होने पर गुण होगा:

- माधुर्य
- प्रसाद
- ओज
- उक्त सभी

Correct Answer :-प्रसाद

46)

Question Stimulus :-

‘प्रत्यक्ष को प्रमाण की आवश्यकता नहीं’ हेतु उपयुक्त लोकोक्ति होगी:

- साँच को आँच नहीं
- हाथ कंगन को आरसी क्या
- मन चंगा तो कठौती में गंगा
- अपनी ढपली अपना राग

Correct Answer :-हाथ कंगन को आरसी क्या

47)

Question Stimulus :-

किसी विचार-सूत्र के पल्लवन का अर्थ है:

- अंकुरित विचार-बीज में से भावों के नये-नये पत्ते फूटना

- किसी पद का भावार्थ प्रकट करना
- निर्धारित शब्द-सीमा में भावों को प्रकट करना
- विचार-सूत्र का प्रारूपण करना

Correct Answer :- अंकुरित विचार-बीज में से भावों के नये-नये पत्ते फूटना

48)

Question Stimulus :-

निम्नोक्त में कौन-सा वाक्य गलत है?

- हिंदी भाषी क्षेत्रों के समाचार पत्र हिंदी लिपि में छपते हैं
- संप्रति वे कुलपति हैं
- मोहन और रीता दोनों तैर रहे हैं
- भिखारी के लिए अन्न लाओ

Correct Answer :- हिंदी भाषी क्षेत्रों के समाचार पत्र हिंदी लिपि में छपते हैं

49)

Question Stimulus :-

“विभावानुभावव्यभिचारिसंयोगाद्रसनिष्पत्तिः” सूत्र है:

- कपिल मुनि का
- भरत मुनि का
- पंडितराज जगन्नाथ का
- अभिनवगुप्त का

Correct Answer :- भरत मुनि का

50)

Question Stimulus :-

‘लिखावट’ शब्द में प्रत्यय है:

- ‘ट’
- ‘वट’
- ‘आवट’
- ‘खावट’

Correct Answer :- ‘आवट’

51)

Question Stimulus :-

निम्नांकित में से कौन-सा विकल्प विलोम है?

- थोक-फुटकर
- गुण-सगुण
- आशा-अभिलाषा
- विधि-न्याय

Correct Answer :-थोक-फुटकर

52)

Question Stimulus :-

काव्य के अंतर्गत पूर्वापर के प्रसंगों से मुक्त रचना है:

- खंडकाव्य
- चंपू
- मुक्तककाव्य
- मुक्त-छंद

Correct Answer :-मुक्तककाव्य

53)

Question Stimulus :-

विश्व की सर्वाधिक बोली जाने वाली भाषाओं में हिंदी का स्थान है:

- चौथा
- दूसरा
- तीसरा
- पाँचवा

Correct Answer :-तीसरा

54)

Question Stimulus :-

विभाषा को कहा जाता है:

- उपभाषा
- परिनिष्ठित भाषा
- विशिष्ट भाषा

- वैज्ञानिक भाषा

Correct Answer :-उपभाषा

55)

Question Stimulus :-

‘मुहावरा’ किस भाषा का शब्द है?

- फ़ारसी
- अरबी
- हिंदी
- उर्दू

Correct Answer :-अरबी

56)

Question Stimulus :-

‘निर्झर’ शब्द का पर्याय है:

- पतझड़
- हिमपात
- प्रपात
- अश्रुपात

Correct Answer :-प्रपात

57)

Question Stimulus :-

‘अत्यंत दुर्लभ वस्तु’ के लिए किस मुहावरे का प्रयोग होगा?

- अंधे की लाठी होना
- बे-पर के उड़ना
- गूलर का फूल होना
- आसमान पर चढ़ना

Correct Answer :-गूलर का फूल होना

58)

Question Stimulus :-

प्रबंधकाव्य के अंतर्गत आते हैं:

- महाकाव्य-खंडकाव्य-आख्यानक गीत
- महाकाव्य-खंडकाव्य-मुक्तक ग्रंथ
- महाकाव्य-खंडकाव्य-गीतिकाव्य
- महाकाव्य-खंडकाव्य-गद्यकाव्य

Correct Answer :-महाकाव्य-खंडकाव्य-आख्यानक गीत

59)

Question Stimulus :-

‘मनुष्य के दुख का कारण भी मनुष्य ही है’- वाक्य है:

- संयुक्त वाक्य
- मिश्र वाक्य
- विस्मयवाचक वाक्य
- सरल वाक्य

Correct Answer :-

सरल वाक्य

60)

Question Stimulus :-

पारिभाषिक शब्द:

- अपने विषय से संबंधित किसी सुनिश्चित धारणा को व्यक्त करते हैं
- अपने विषय से संबंधित परिभाषाओं के प्रतिपादन में सहायता करते हैं
- अंग्रेजी से हिंदी अनुवाद में सहायक होते हैं
- बहुअर्थी एवं बहुआयामी होते हैं

Correct Answer :-अपने विषय से संबंधित किसी सुनिश्चित धारणा को व्यक्त करते हैं

61)

Question Stimulus :-

‘अज’ शब्द के अभिप्राय हैं:

- ब्रह्मा, बकरा
- अजर, अमर
- अजाना, दशरथ
- उपर्युक्त में से कोई नहीं

Correct Answer :-ब्रह्मा, बकरा

62)

Question Stimulus :-

छंद के कितने प्रकार हैं?

- 8
- 6
- 4
- 2

Correct Answer :-2

63)

Question Stimulus :-

मध्यप्रदेश की प्रमुख जनपद (लोक) भाषाएँ हैं:

- बुंदेली-बघेली-मालवी-निमाड़ी
- बुंदेली-मालवी-गोंडी-निमाड़ी
- बुंदेली-छत्तीसगढ़ी-मालवी-भीली
- बघेली-निमाड़ी-कोरकू-मालवी

Correct Answer :-बुंदेली-बघेली-मालवी-निमाड़ी

64)

Question Stimulus :-

काव्य के बाह्य रूप के आधार पर भेद हैं:

- महाकाव्य और खंडकाव्य
- गीतिकाव्य और प्रबंधकाव्य
- पद्यकाव्य और गद्यकाव्य
- चंपू और मुक्तककाव्य

Correct Answer :-पद्यकाव्य और गद्यकाव्य

65)

Question Stimulus :-

बोली विकसित होकर बनती है:

- मातृभाषा

- संकर भाषा
- विभाषा
- मानक भाषा

Correct Answer :-विभाषा

Topic:- RC_Hindi

1)

Question Stimulus :-

‘चौथा संसार’ समाचार पत्र का प्रकाशन होता है:

- सागर
- इंदौर
- जबलपुर
- ग्वालियर

Correct Answer :-इंदौर

2)

Question Stimulus :-

निर्देश: अपठित गद्यांश को पढ़कर निम्नोक्त प्रश्नों के उत्तर दीजिए-

हम मनुष्यों का कुछ न कुछ बनने का स्वप्न होता है। हम अपने स्वप्न को साकार रूप प्रदान करने के लिए उसे अपना आधार और लक्ष्य बना लेते हैं। अपने सपने के आधार पर अपने भविष्य की नींव रखना आरंभ करते हैं। हमारा लक्ष्य कुछ भी हो सकता है। हम चिकित्सक, इंजीनियर, राजनेता, अभिनेता, सरकारी कर्मचारी, अध्यापक कुछ भी बनने की सोच सकते हैं। हमारी शिक्षा का स्तर भी लक्ष्य के आधार पर बढ़ने लगता है। शिक्षा एक ऐसा माध्यम है, जो लक्ष्य तक पहुँचने का मार्ग है। शिक्षा ही लक्ष्य तक पहुँचाकर सपने को साकार करती है। यह मनुष्य के जीवन में बहुमूल्य रत्न के समान है, जो किसी के द्वारा चुराया व मिटाया नहीं जा सकता है।

उक्त गद्यांश को पढ़कर बताइए कि मनुष्य का आधार व लक्ष्य क्या होता है?

- धन कमाना और सफल बनना
- स्वयं के सपने को साकार करना
- घर बसाना और जीवन में सुख-सुविधाओं का भोग करना
- मनचाही नौकरी पाना

Correct Answer :-स्वयं के सपने को साकार करना

3)

Question Stimulus :-

निर्देश: अपठित गद्यांश को पढ़कर निम्नोक्त प्रश्नों के उत्तर दीजिए-

हम मनुष्यों का कुछ न कुछ बनने का स्वप्न होता है। हम अपने स्वप्न को साकार रूप प्रदान करने के लिए उसे अपना आधार और लक्ष्य बना लेते हैं। अपने सपने के आधार पर अपने भविष्य की नींव रखना आरंभ करते हैं। हमारा लक्ष्य कुछ भी हो सकता है। हम चिकित्सक, इंजीनियर, राजनेता, अभिनेता, सरकारी कर्मचारी, अध्यापक कुछ भी बनने की सोच सकते हैं। हमारी शिक्षा का स्तर भी लक्ष्य के आधार पर बढ़ने लगता है। शिक्षा एक ऐसा माध्यम है, जो लक्ष्य तक पहुँचने का मार्ग है। शिक्षा ही लक्ष्य तक पहुँचाकर सपने को साकार करती है। यह मनुष्य के जीवन में बहुमूल्य रत्न के समान है, जो किसी के द्वारा चुराया व मिटाया नहीं जा सकता है।

प्रस्तुत गद्यांश का उपयुक्त शीर्षक है:

- शिक्षा का महत्व
- शिक्षा और नौकरी
- शिक्षा और सपने
- शिक्षा का अर्थ

Correct Answer :- शिक्षा का महत्व

4)

Question Stimulus :-

निर्देश: अपठित पद्यांश को पढ़कर निम्नोक्त प्रश्नों के उत्तर दीजिए-

रात यों कहने लगा मुझसे गगन का चाँद,
आदमी भी क्या अनोखा जीव होता है ।
उलझने अपनी बनाकर आप ही फँसता,
और फिर बेचैन हो जगता, न सोता है ।
जानता है तू कि मैं कितना पुराना हूँ?
मैं चुका हूँ देख मनु को जनमते-मरते
और लाखों बार तुझ-से पागलों को भी
चाँदनी में बैठ स्वप्नों पर सही करते ।

कवि के अनुसार कौन अपने आप उलझनें पैदा कर फँसता है?

- अनोखा जीव
- आदमी
- गगन का चाँद

- मनु

Correct Answer :-आदमी

5)

Question Stimulus :-

निर्देश: अपठित पद्यांश को पढ़कर निम्नोक्त प्रश्नों के उत्तर दीजिए-

रात यों कहने लगा मुझसे गगन का चाँद,
आदमी भी क्या अनोखा जीव होता है ।
उलझने अपनी बनाकर आप ही फँसता,
और फिर बेचैन हो जगता, न सोता है ।
जानता है तू कि मैं कितना पुराना हूँ?
मैं चुका हूँ देख मनु को जनमते-मरते
और लाखों बार तुझ-से पागलों को भी
चाँदनी में बैठ स्वप्नों पर सही करते ।

'अनोखा जीव' का समानार्थी है:

- एक विशेष प्रकार का जानवर
- उलझन पैदा करने वाला
- एक विशिष्ट शारीरिक रचना
- अद्भुत प्राणी

Correct Answer :-अद्भुत प्राणी

Topic:- General Science

1)

Question Stimulus :-

Which among the following causes Hydrophobia ultimately?/ निम्नलिखित में से कौन अंततः जलातंक(जल से डर) का कारण बनता है?

- A virus/ एक विषाणु
- A bacteria/ एक जीवाणु
- A protozoa/ एक प्रोटोजोआ
- A worm/ एक कीड़ा

Correct Answer :-A virus/ एक विषाणु

2)

Question Stimulus :-

Which of the following microorganism cause hepatitis B?/निम्न में से कौन-सा सूक्ष्मजीव हेपटाइटिस बी का कारण है?

- Virus/ विषाणु
- Protozoa/ प्रोटोज़ोआ
- Bacteria/ जीवाणु
- None of the above/ उपरोक्त में से कोई नहीं

Correct Answer :-Virus/ विषाणु

3)

Question Stimulus :-

The weight of a person will be minimum at:/ एक व्यक्ति का भार निम्न में से किस स्थान पर न्यूनतम होगा?

- The North Pole/ उत्तरी ध्रुव
- The magnetic north Pole/ चुम्बकीय उत्तरी ध्रुव
- The Equator/ विषुवत पर
- The center of the Earth/ पृथ्वी के केंद्र में

Correct Answer :-The center of the Earth/ पृथ्वी के केंद्र में

4)

Question Stimulus :-

Which among the following is different from other three?/ निम्नलिखित में से कौन-सा अन्य तीन से अलग है?

- Fish/ मछली
- Prawn/ झींगा
- Crab/ केकड़ा
- Snail/ घोंघा

Correct Answer :-Fish/ मछली

5)

Question Stimulus :-

Water at approx 4 degree centigrade has _____./ लगभग 4 डिग्री सेंटीग्रेड पर जल _____ होता है।

- Minimum density/ न्यूनतम घनत्व
- Maximum density/ अधिकतम घनत्व
- Maximum Volume/ अधिकतम आयतन
- None of the above/ उपरोक्त में से कोई नहीं

Correct Answer :-Maximum density/ अधिकतम घनत्व

6)

Question Stimulus :-

Identify chemical name of vitamin C?/ विटामिन-सी का रसायनिक नाम बताइये?

- Ascorbic acid/ ऐस्कोर्बिक अम्ल
- Retinol/ रेटिनोल
- Thiamine/ थाइमिन
- Tochopherol/ टोकोफेरोल

Correct Answer :-Ascorbic acid/ ऐस्कोर्बिक अम्ल

7)

Question Stimulus :-

Which among the following principle is used by Bats?/ निम्न में से कौन-सा सिद्धांत चमगादड़ द्वारा प्रयोग किया जाता है?

- RADAR (Radio Detective & Ranging)/ रडार (रेडियो जासूसी और लेकर)
- SONAR (Sound Navigation & Ranging)/ सोनार (ध्वनि नेविगेशन और लेकर)
- Law of reflection/ परावर्तन का नियम
- Doppler effect/ डॉप्लर प्रभाव

Correct Answer :-SONAR (Sound Navigation & Ranging)/ सोनार (ध्वनि नेविगेशन और लेकर)

8)

Question Stimulus :-

Milk is basically a type of:/ दुग्ध एक प्रकार का _____ है।

- Emulsion/ पायसन
- Solvent/ विलयन
- Suspension/ निलंबन

- Gel/ जेल

Correct Answer :-Emulsion/ पायसन

9)

Question Stimulus :-

1 gm of which of the following will produce maximum ATPs? / निम्न में से किसमें 1 ग्राम में अधिकतम ATPS का उत्पादन होता है?

- Protein/ प्रोटीन
- Carbohydrate/ कार्बोहाइड्रेट
- Fat /वसा
- Cellulose/ सेलूलोज़

Correct Answer :-Fat /वसा

10)

Question Stimulus :-

Skin works as a respiratory organ in which of the following Animals? / निम्न में से कौन-से जंतु की त्वचा एक श्वसन अंग के रूप में काम करती है?

- Cockroach/ तिलचट्टा
- Frog / मेढक
- Whale/ व्हेल
- Dog Fish/ कुत्ता मछली

Correct Answer :-Frog / मेढक

11)

Question Stimulus :-

When 1 litre of water freezes, the volume of ice formed will be:/ 1 लिटर जल को जमाने पर बर्फ का कितना आयतन प्राप्त होगा?

- 0.9 litre/ 0.9 लिटर
- 1.0 litre/ 1.0 लिटर
- 1.11 litre/ 1.11 लिटर
- 2.0 litre/ 2.0 लिटर

Correct Answer :-1.11 litre/ 1.11 लिटर

12)

Question Stimulus :-

The "Asteroids belt" are located between which among the following planets?/ निम्न में से कौन-से ग्रहों के बीच "क्षुद्रग्रह पट्टि" उपस्थित है?

- Mars and Jupiter/ मंगल और बृहस्पति
- Saturn & Jupiter/ शनि एवं बृहस्पति
- Mercury and Venus/ बुध और शुक्र
- Earth & Mars/ पृथ्वी एवं मंगल

Correct Answer :-Mars and Jupiter/ मंगल और बृहस्पति

13)

Question Stimulus :-

Bleaching Powder is a compound of _____./ ब्लिचिंग पाउडर _____ का एक यौगिक है।

- Sodium/ सोडियम
- Calcium/ कैल्शियम
- Magnesium/ मैग्नीशियम
- Potassium/ पोटेशियम

Correct Answer :-Calcium/ कैल्शियम

14)

Question Stimulus :-

Which disease is caused by the deficiency of protein. Identify it from the given options?/ प्रोटीन की कमी से कौन-सा रोग होता है, निम्न विकल्प देखकर पहचानिए?

- Goitre/ ग्वाइटर (घेंघा)
- Kwashiorkar/ क्वाशिओरकर
- Hypokalemia/ हायपोकेलेमिया
- Dermatitis/ डर्मटोसिस

Correct Answer :-Kwashiorkar/ क्वाशिओरकर

15)

Question Stimulus :-

Deficiency of Tocopherol leads to sterility in males and females. The chemical term for Tocopherol is ____?/ टोकोफेरोल की कमी से पुरुषों और महिलाओं में नपुंसकता हो सकती है। टोकोफेरोल का रासायनिक नाम ____ है?

- Vitamin B3/ विटामिन बी3

- Vitamin K/ विटामिन के
- Vitamin E/ विटामिन ई
- Vitamin C/ विटामिन सी

Correct Answer :-Vitamin E/ विटामिन ई

16)

Question Stimulus :-

Which among the following two gases contribute to begin the formation of stars?/
निम्नलिखित में से कौन-सी दो गैसों के योगदान से तारों के निर्माण का प्रारम्भ होता है?

- Hydrogen & Nitrogen/ हाइड्रोजन एवं नाइट्रोजन
- Nitrogen and Helium/ नाइट्रोजन और हीलियम
- Helium & Hydrogen/ हीलियम एवं हाइड्रोजन
- Hydrogen and Oxygen/ हाइड्रोजन और ऑक्सीजन

Correct Answer :-Helium & Hydrogen/ हीलियम एवं हाइड्रोजन

17)

Question Stimulus :-

Who discovered Ultrasound?/ पराध्वनि की खोज किसने की?

- Ian Donald/ इयान डोनाल्ड
- Roger Bacon/ रोजर बेकन
- JP Merri/ जेपी मेरी
- Joseph Lister/ जोसेफ लिस्टर

Correct Answer :-Ian Donald/ इयान डोनाल्ड

18)

Question Stimulus :-

Which of the following elements is used for the bleaching process?/ निम्न में से कौन-सा तत्व
ब्लीचिंग चूर्ण निर्माण में उपयोग होता है?

- Fluorine/ फ्लोरीन
- Bromine/ ब्रोमीन
- Chlorine/ क्लोरिन
- Xenon/ जीनोन

Correct Answer :-Chlorine/ क्लोरिन

19)

Question Stimulus :-

Digestion is not a function of which of the following?/ पाचन की क्रिया निम्न में से किसका कार्य नहीं है?

- Biotin/ बायोटिन
- Pepsin/ पेप्सिन
- Rennin/ रेनिन
- None of the above/ उपरोक्त में से कोई नहीं

Correct Answer :-Biotin/ बायोटिन

20)

Question Stimulus :-

Plants get their nitrogen from:/ पौधों को नाइट्रोजन प्राप्त होती है?

- Rain/ वर्षा से
- The soil/ मृदा से
- The air/ वायु से
- Ground water/ भूमिगत जल से

Correct Answer :-The soil/ मृदा से

Topic:- General Knowledge

1)

Question Stimulus :-

Which of the following films won the first prize at the Swachh Bharat Short Film Festival (SBSFF) recently?/ निम्न में से किस फिल्म को हाल ही में स्वच्छ भारत फिल्म उत्सव में सर्वश्रेष्ठ फिल्म का पुरस्कार मिला है?

- Sarkarmi Rati Wadho!/ सरकारमी रति वधो
- Chembuku Moodindi/चेंबूकू मूदिंडी
- Nahna Doot/ नन्हा दूत
- Murga/ मुर्गा

Correct Answer :-Murga/ मुर्गा

2)

Question Stimulus :-

Japan's Yoshinori Ohsumi has won 2016 Noble Prize in:/ जापान के योशिनोरी ओशुमी ने किस क्षेत्र में 2016 का नोबल पुरस्कार जीता है?

- Medicine/ चिकित्सा
- Chemistry/ रसायन
- Physics/ भौतिकी
- Literature/ साहित्य

Correct Answer :-Medicine/ चिकित्सा

3)

Question Stimulus :-

The 2016 BRICS Labour and Employment Ministerial Meet was held recently in:/ मजदूर व रोजगार मंत्रालयीन सम्मेलन 'ब्रिक्स 2016' हाल ही में कहाँ सम्पन्न हुआ?

- New Delhi / नई दिल्ली
- Mumbai/ मुंबई
- Jaipur/ जयपुर
- Kochi/ कोच्चि

Correct Answer :-New Delhi / नई दिल्ली

4)

Question Stimulus :-

Which of the following soil is most fertile?/ निम्न में से कौन-सी मृदा सबसे अधिक उपजाऊ होती है?

- Red Yellow soil/ लाल व पीली मृदा
- Alluvial soil/ जलोढ़ मृदा
- Laterite soil/ लेटराइट मृदा
- Mixed soil/ मिश्रित मृदा

Correct Answer :-Alluvial soil/ जलोढ़ मृदा

5)

Question Stimulus :-

Which district of Madhya Pradesh has maximum net agriculture land?/ मध्यप्रदेश के कौन-से जिले में सर्वाधिक कृषि योग्य भूमि है?

- Ujjain/ उज्जैन
- Hoshangabad/ होशंगाबाद

- **Neemuch/ नीमच**
- **Morena/ मुरैना**

Correct Answer :-Ujjain/ उज्जैन

6)

Question Stimulus :-

The Lodha Committee's recommendations on reforms are associated with:/ लोढा समिति की सिफ़ारिशें निम्न में से किस समूह के सुधार से संबंधित हैं?

- **Hockey India / हॉकी इंडिया**
- **All India Football Federation/ ऑल इंडिया फुटबॉल फेडरेशन**
- **Board of Control for Cricket in India/ बोर्ड ऑफ कंट्रोल फॉर क्रिकेट इन इंडिया**
- **Sports Authority of India/ भारतीय खेल प्राधिकरण**

Correct Answer :-Board of Control for Cricket in India/ बोर्ड ऑफ कंट्रोल फॉर क्रिकेट इन इंडिया

7)

Question Stimulus :-

The name of Harika Dronavalli is associated with which of the following games?/ हरिका द्रोणावल्ली किस खेल से संबंधित है?

- **Squash/ स्क्वाश**
- **Table tennis/ टेबल टेनिस**
- **Snooker/ स्नूकर**
- **Chess/ शतरंज**

Correct Answer :-Chess/ शतरंज

8)

Question Stimulus :-

Which project is a joint effort of the MP & UP Governments and is built on the Betwa river? /निम्न में से कौन सी परियोजना बेतवा नदी पर मध्य प्रदेश और उत्तर प्रदेश सरकार की संयुक्त परियोजना है?

- **Betwa Valley project/ बेतवा घाटी परियोजना**
- **Ban Sagar project /बाण सागर परियोजना**
- **Rajghat project/ राजघाट परियोजना**
- **Halali project/ हलाली परियोजना**

Correct Answer :-Rajghat project/ राजघाट परियोजना

9)

Question Stimulus :-

Who among the following is the author of book “1991: How PV Narasimha Rao Made History”?/ निम्न में से कौन “1991: हाऊ पी वी नरसिम्हा राव मेड हिस्ट्री” के लेखक है?

- Sanjaya Baru/ संजय बारू
- Ajit Doval/ अजित डोवल
- G Parthasarathy/ जी पार्थसारथी
- Shyam Saran/ श्याम सरन

Correct Answer :-Sanjaya Baru/ संजय बारू

10)

Question Stimulus :-

Arundhati Bhattacharya has been given an extension of one year as the chairperson of:/ अरुंधति भट्टाचार्य को हाल ही में किस संस्था में अध्यक्ष बने रहने के लिए एक वर्ष का विस्तार दिया गया है?

- State Bank of India/ भारतीय स्टेट बैंक
- LIC of India/ भारतीय जीवन बीमा निगम
- Punjab National Bank/ पंजाब नेशनल बैंक
- Bank of Baroda/ बैंक ऑफ बड़ौदा

Correct Answer :-State Bank of India/ भारतीय स्टेट बैंक

11)

Question Stimulus :-

Anupriya Patel is currently the Minister of State in the Ministry of:/ अनुप्रिया पटेल वर्तमान में किस मंत्रालय में राज्य मंत्री के पद पर हैं?

- HRD/ मानव संसाधन मंत्री
- Foreign Affairs/ विदेशी मामले
- Home Affairs/ गृह मंत्रालय
- Health and Family Welfare/ स्वास्थ्य व परिवार कल्याण

Correct Answer :-Health and Family Welfare/ स्वास्थ्य व परिवार कल्याण

12)

Question Stimulus :-

Which of the following rivers of Madhya Pradesh has the largest number of projects?/ मध्यप्रदेश की किस नदी पर सबसे अधिक संख्या में परियोजनाएँ बनी हैं?

- Son/ सोन
- PENCH/ पेंच
- Narmada/ नर्मदा
- Chambal/ चंबल

Correct Answer :-Narmada/ नर्मदा

13)

Question Stimulus :-

The first Chief Secretaries of Madhya Pradesh was:/मध्यप्रदेश के प्रथम मुख्य सचिव कौन थे?

- Shri HS Kashath/ श्री एचएस कसथ
- Shri RP Naronha/ श्री आरपी नरोन्हा
- Shri RP Naik/ श्री आरपी नायक
- Shri SC Verma/ श्री एससी वर्मा

Correct Answer :-Shri HS Kashath/ श्री एचएस कसथ

14)

Question Stimulus :-

Annu Rani who has recently broken her own record is associated with which of the following sports? /अनु रानी किस खेल से संबंधित हैं, जिन्होंने हाल ही में स्वयं का राष्ट्रीय कीर्तिमान तोड़ा है?

- Javelin Throw/ भाला फेंक
- Archery/ तीरंदाजी
- Shooting/ निशानेबाजी
- Boxing/ मुक्केबाज़ी

Correct Answer :-Javelin Throw/ भाला फेंक

15)

Question Stimulus :-

Which of the following central forces celebrated its 55th raising day on 24 Oct 2016? / निम्न में से किस केंद्रीय बल ने 24 अक्टूबर 2016 को अपना 55वां स्थापना दिवस मनाया है?

- ITBP/ आईटीबीपी
- BSF/ बीएसएफ़
- CISF/ सीआईएसएफ़

- SSB/ एसएसबी

Correct Answer :-ITBP/ आईटीबीपी

16)

Question Stimulus :-

Pench Hydroelectric Project is a joint project of which two states?/ पेंच जल विद्युत् परियोजना किन-दो राज्यों की संयुक्त परियोजना है?

- Madhya Pradesh and Maharashtra/ मध्यप्रदेश व महाराष्ट्र
- Madhya Pradesh and Bihar/ मध्यप्रदेश व बिहार
- Madhya Pradesh and Rajasthan/ मध्यप्रदेश व राजस्थान
- Madhya Pradesh/ and Uttar Pradesh/ मध्यप्रदेश व उत्तर प्रदेश

Correct Answer :-Madhya Pradesh and Maharashtra/ मध्यप्रदेश व महाराष्ट्र

17)

Question Stimulus :-

Who among the following won the women's singles title of the 2016 US Open?/ निम्न में से किसने 2016 यू एस ओपन का एकल महिला खिताब जीता है?

- Venus Williams/ वीनस विलियम्स
- Serena Williams/ सेरेना विलियम्स
- Karolina Pliskova/ कैरोलिना प्लिस्कोवा
- Angelique Kerber/ एंजेलिक कर्बर

Correct Answer :-Angelique Kerber/ एंजेलिक कर्बर

18)

Question Stimulus :-

Which of the following country is not a member of SAARC?/ निम्न में से कौन-सा का देश सार्क का सदस्य नहीं है?

- Sri Lanka/ श्री लंका
- Bhutan/ भूटान
- Afghanistan/ अफगानिस्तान
- Myanmar/ म्यांमार

Correct Answer :-Myanmar/ म्यांमार

19)

Question Stimulus :-

“Mandla Plant Fossils park” is a:/ “मंडला पादप जीवाश्म उद्यान” एक है।

- Biological Park/ जैविक उद्यान
- Sanctuary/अभ्यारण्य
- National Park/ राष्ट्रीय उद्यान
- Tiger reproduction centre/ बाघ प्रजनन केंद्र

Correct Answer :-National Park/ राष्ट्रीय उद्यान

20)

Question Stimulus :-

Which is the state game of Madhya Pradesh?/ निम्न लिखित में से कौन सा मध्य प्रदेश का राज्तीय खेल है ?

- Kabaddi/कबड्डी
- Malkhamb/मलखंब
- Kho Kho/खो खो
- Cricket/क्रिकेट

Correct Answer :-Malkhamb/मलखंब

21)

Question Stimulus :-

Match the following:/ निम्न को सुमेलित कीजिये:

-	List I	-	List II
A.	Balaghat/ बालाघाट	1.	Wainganga/ वेनगंगा
B.	Orcha/ ओरछा	2.	Betwa/ बेतवा
C.	Shivpuri/ शिवपुरी	3.	Sindh/ सिंध
D.	Pachmarhi/ पचमढ़ी	4.	Tawa/ तवा

- | | | | |
|---|---|---|---|
| A | B | C | D |
| 4 | 3 | 2 | 1 |

- | | | | |
|---|---|---|---|
| A | B | C | D |
| 1 | 3 | 4 | 2 |

- | | | | |
|---|---|---|---|
| A | B | C | D |
| 3 | 2 | 1 | 4 |

- | | | | |
|---|---|---|---|
| A | B | C | D |
| 1 | 2 | 3 | 4 |

Correct Answer :-

A	B	C	D
1	2	3	4

22)

Question Stimulus :-

'Which one of the national park is not located in Madhya Pradesh?/ निम्न में से कौन-सा राष्ट्रीय उद्यान मध्यप्रदेश में नहीं है?

- Bandhavgarh/ बांधवगढ़
- Kanha/ कान्हा
- Van Vihar National Park/ वन विहार राष्ट्रीय उद्यान
- Sinha National Park/ सिन्हा राष्ट्रीय उद्यान

Correct Answer :-Sinha National Park/ सिन्हा राष्ट्रीय उद्यान

23)

Question Stimulus :-

Which division of Madhya Pradesh has the maximum number of districts?/ मध्यप्रदेश के कौन-से संभाग में सर्वाधिक जिले हैं?

- Indore/ इंदौर
- Jabalpur/ जबलपुर
- Bhopal/ भोपाल
- Ujjain/ उज्जैन

Correct Answer :-Indore/ इंदौर

24)

Question Stimulus :-

The World Teacher's Day is observed every year on:/ विश्व शिक्षक दिवस प्रत्येक वर्ष किस दिन मनाया जाता है?

- 5 September/ 5 सितंबर
- 2 October/ 2 अक्टूबर
- 3 October/ 3 अक्टूबर
- 5 October/ 5 अक्टूबर

Correct Answer :-5 October/ 5 अक्टूबर

25)

Question Stimulus :-

The International Translation Day is observed every year on:/ अंतर्राष्ट्रीय अनुवाद दिवस प्रतिवर्ष कब मनाया जाता है?

- 16 September/ 16 सितंबर
- 21 September/ 21 सितंबर
- 29 September/ 29 सितंबर
- 30 September/ 30 सितंबर

Correct Answer :-30 September/ 30 सितंबर

26)

Question Stimulus :-

What is the duration of term of a Panchayat according to Indian constitution?/ भारतीय सविधान के अनुसार पंचायत का कार्यकाल कितने समय का होता है?

- 5 years/ 5 वर्ष
- 6 years/ 6 वर्ष
- 4 years/ 4 वर्ष
- 1 year/ 1 वर्ष

Correct Answer :-5 years/ 5 वर्ष

27)

Question Stimulus :-

The powerful typhoon Chaba hit which of the following countries recently?/ हाल ही में कौन-से देश में चाबा नामक टायफून आया था?

- Mexico/ मेक्सिको
- Chile/ चिली
- Japan/ जापान
- Indonesia/ इन्डोनेशिया

Correct Answer :-Japan/ जापान

28)

Question Stimulus :-

Literacy rate of Madhya Pradesh is (according to census 2011):/ मध्य प्रदेश की साक्षरता दर (जनगणना 2011 के अनुसार) है:

- 69.3%
- 74.7%
- 59.2%
- 91%

Correct Answer :-69.3%

29)

Question Stimulus :-

PM Narendra Modi inaugurated the first National Tribal Carnival recently in:/ प्रधानमंत्री नरेंद्र मोदी ने हाल ही में देश के पहले राष्ट्रीय जनजातीय आनंदोत्सव का शुभारंभ कहाँ किया?

- Raipur / रायपुर
- Ranchi/ रांची
- New Delhi/ नई दिल्ली
- Hyderabad/ हैदराबाद

Correct Answer :-New Delhi/ नई दिल्ली

30)

Question Stimulus :-

Who among the following won the 2016 Malaysian Grand Prix F1 championship?/ निम्न में कौन 2016 की मलेशियन ग्रांड प्रिक्स एफ1 का विजेता है?

- Daniel Ricciardo/ डेनियल रिकार्डो
- Nico Rosberg/ निको रोसबर्ग
- Max Verstappen/ मैक्स वेस्टाप्पेन
- Sebastian Vettel/ सेबेस्टियन वेट्टल

Correct Answer :-Daniel Ricciardo/ डेनियल रिकार्डो

Topic:- Quantitative Aptitude

1)

Question Stimulus :-

Divide 935 into three parts in such a way that half of the first part, $\frac{1}{3}$ of the second part and $\frac{1}{6}$ of the third part are equal. Then the third part is: / 935 को तीन भागों में इस प्रकार बाँटिए कि पहले भाग का आधा दूसरे भाग का $\frac{1}{3}$ और तीसरे भाग का $\frac{1}{6}$ बराबर है । तीसरा भाग है-

- 170
- 255
- 510

- 1510

Correct Answer :-510

2)

Question Stimulus :-

The product of two numbers is 192 and the difference is 4. These two numbers are:/ दो संख्याओं का गुणनफल 192 और अन्तर 4 है । ये दो संख्याएं होंगी-

- 16, 12
- 18, 14
- 17, 13
- 15, 11

Correct Answer :-16, 12

3)

Question Stimulus :-

A is twice as good workman as B. Together, they finish the work in 14 days. In how many days can it be finish by B separately?/ A, B से दो गुना अच्छा श्रमिक है। वे एक साथ एक कार्य को 14 दिन में समाप्त कर देते हैं । B को अकेले इस कार्य को समाप्त करने में कितने दिन का समय लगेगा?

- 21
- 28
- 42
- 35

Correct Answer :-42

4)

Question Stimulus :-

Two pipes A and B can fill a cistern in 6 and 8 minutes respectively. If both the pipes kept turned on alternatively for one minute each starting from A, how long will it take to fill the cistern?/ दो नल A और B एक पात्र को क्रमशः 6 और 8 मिनट में भर सकते हैं। यदि A से प्रारम्भ करते हुए दोनों नलों को एक-एक मिनट के लिये बारी-बारी से खोला जाए, तो पात्र को भरने में कितना समय लगेगा?

- $3\frac{3}{7}$ minutes/ $3\frac{3}{7}$ मिनट
- 6 minutes/ 6 मिनट
- $6\frac{3}{4}$ minutes/ $6\frac{3}{4}$ मिनट
- $6\frac{6}{7}$ minutes/ $6\frac{6}{7}$ मिनट

Correct Answer :- $6\frac{3}{4}$ minutes/ $6\frac{3}{4}$ मिनट

5)

Question Stimulus :-

There are two types of mixture of milk and water. In the first mixture, out of 27 ltr, 24 ltr is milk only and in the second mixture, 40 ltr is milk and 5 ltr is water. Which one mixture is better in terms of milk's strength? / दूध तथा पानी के दो प्रकार के मिश्रण हैं। पहले मिश्रण के 27 लीटर में, 24 लीटर केवल दूध है तथा दूसरे मिश्रण में 40 लीटर दूध तथा 5 लीटर पानी है। कौन-से मिश्रण में दूध की अच्छी मात्रा है?

- First/पहले
- Second/दूसरे
- Same in both/दोनों में समान है
- Data insufficient/आंकड़े अपर्याप्त है

Correct Answer :-Same in both/दोनों में समान है

6)

Question Stimulus :-

The average salary of the entire staff in a office is ₹120 per month. The average salary of officers is ₹460 and that of non-officers is ₹110. If the number of officers is 15, then the number of non-officers in the office is: / किसी कार्यालय के कर्मचारियों का मासिक औसत वेतन ₹120 है। अधिकारियों का औसत वेतन ₹460 और जो अधिकारी नहीं हैं उनका ₹110 है। यदि अधिकारियों की संख्या 15 है, तो कार्यालय में जो अधिकारी नहीं हैं, उनकी संख्या है:

- 500
- 488
- 510
- 450

Correct Answer :-510

7)

Question Stimulus :-

Some amount out of ₹7000 was lent at 6% per annum and the remaining at 4% per annum. The total simple interest from both the fraction in 5 years was ₹1600. The sum lent at 6% per annum is: / ₹7000 में से कुछ राशि 6% वार्षिक ब्याज की दर से और शेष 4% वार्षिक ब्याज की दर से उधार दी गई है। दोनों हिस्सों का 5 वर्ष का कुल साधारण ब्याज ₹1600 है। 6% वार्षिक ब्याज की दर से उधार दी गई राशि है:

- ₹2000
- ₹3000
- ₹4000

- ₹5000

Correct Answer :- ₹2000

8)

Question Stimulus :-

How many percent of the profit earned on cost price is equal to the 30% of the profit earned on selling price? / क्रय मूल्य पर प्राप्त कितने प्रतिशत लाभ, विक्रय मूल्य पर प्राप्त 30% लाभ के बराबर है?

- 20%
- 30%
- $33\frac{1}{3}\%$
- $42\frac{6}{7}\%$

Correct Answer :- $42\frac{6}{7}\%$

9)

Question Stimulus :-

If the surface area of two spheres are in the ratio 9:16, then the ratio of their volumes will be:/ यदि दो गोलों के पृष्ठीय क्षेत्रफलों का अनुपात 9 : 16 है, तो उनके आयतनों का अनुपात होगा:

- 9 : 16
- 16:9
- 27:64
- 3:4

Correct Answer :- 27:64

10)

Question Stimulus :-

If $\sqrt{1 + \frac{27}{169}} = 1 + \frac{x}{13}$, then x equals:/यदि $\sqrt{1 + \frac{27}{169}} = 1 + \frac{x}{13}$ है, तो x बराबर है :

- $3\sqrt{3}$
- 1
- 27
- 13

Correct Answer :- 1

11)

Question Stimulus :-

If a train, with a speed of 54 km/hr, crossed a pole in 30 second, the length of the train (in meters) is:/ यदि एक रेलगाड़ी किसी खम्भे को 54 किमी प्रति घंटे की चाल से 30 सेकंड में पार करती है, तो रेलगाड़ी की लंबाई (मीटर में) होगी:

- 1000
- 900
- 450
- 500

Correct Answer :-450

12)

Question Stimulus :-

Find the wrong term in the given series:/दी हुई श्रेणी में गलत पद ज्ञात करें:

1, 3, 10, 36, 152, 760, 4632

- 3
- 36
- 4632
- 760

Correct Answer :-760

13)

Question Stimulus :-

What will come in place of Question mark (?) in the following number series?/ निम्नलिखित संख्या श्रेणी में प्रश्नवाचक चिन्ह (?) के स्थान पर क्या आयेगा?

198, 194, 185, 169, (?)

- 154
- 165
- 144
- 134

Correct Answer :-144

14)

Question Stimulus :-

A, B & C start running at the same time and in the same direction on a circular path. A completes a round in 252 seconds, B in 308 seconds and C in 198 seconds. After what time will they all meet again for the first time? / A, B तथा C एक वृत्ताकार पथ पर एक ही दिशा में एक साथ दौड़ना आरम्भ करते हैं। A एक चक्कर 252 सेकेण्ड में पूरा करता है, B एक चक्कर 308 सेकेण्ड में पूरा करता है तथा C एक चक्कर 198 सेकेण्ड में पूरा करता है। वे सभी पुनः कितने समय बाद पहली बार मिलेंगे?

- 26 minutes 18 seconds/26 मिनट 18 सेकेण्ड
- 42 minutes 36 seconds/42 मिनट 36 सेकेण्ड
- 45 minutes/45 मिनट
- 46 minutes 12 seconds/46 मिनट 12 सेकेण्ड

Correct Answer :-46 minutes 12 seconds/46 मिनट 12 सेकेण्ड

15)

Question Stimulus :-

If the price of petrol is increased by 25%, by what percent the consumption of petrol must be reduced so that expenditure remains unchanged? / यदि पेट्रोल की कीमत में 25% की वृद्धि होती है, तो पेट्रोल की खपत में कितने प्रतिशत की कमी की जाए ताकि व्यय अपरिवर्तित रहे?

- 20%
- 25%
- $33\frac{1}{3}\%$
- 50%

Correct Answer :-20%

16)

Question Stimulus :-

Pepsi and Coke, there are two companies, selling the packs of cold-drinks. For the same selling price Pepsi gives two successive discounts of 10% and 25% on marked price, while Coke sells it by giving two successive discounts of 15% and 20% on marked price. What is the ratio of their marked price? / पेप्सी और कोक दो कंपनियाँ हैं जो कोल्ड ड्रिंक्स बेचती हैं। एक समान विक्रय मूल्य के लिए पेप्सी अंकित मूल्य पर 10% और 25% की दो क्रमागत छूट देती है, जबकि कोक अंकित मूल्य पर 15% और 20% की दो क्रमागत छूट देती हैं। उनके अंकित मूल्यों का अनुपात ज्ञात कीजिए?

- 143 : 144
- 19 : 11
- 136 : 135
- 73 : 77

Correct Answer :-136 : 135

17)

Question Stimulus :-

If a team of four persons is to be selected from 8 males and 8 females, then in how many ways can the selections be made to include at least one male?/ यदि 8 पुरुष और 8 महिलाओं में से चार व्यक्तियों के एक दल का चयन किया जाना है, तो कितने तरीके से दल का चयन किया जा सकता है जिसमें कम से कम एक पुरुष हो?

- 3500
- 875
- 1200
- 1750

Correct Answer :-1750

18)

Question Stimulus :-

An ore contains 25% of an alloy that has 90% copper. Other than this, in the remaining 75% of the ore, there is no copper. How many kilograms of the ore are needed to obtain 60 kg of pure copper?/ एक अयस्क के 25% में एक मिश्रधातु है जिसमें 90% ताँबा है। इसके अतिरिक्त 75% अयस्क में ताँबा नहीं है। 60 किग्रा शुद्ध ताँबा प्राप्त करने के लिये कितने किलोग्राम अयस्क की आवश्यकता होगी?

- 250
- 275
- 300
- 266.66

Correct Answer :-266.66

19)

Question Stimulus :-

In a box there are 4 black, 4 orange and 2 blue marbles. Two marbles are drawn at random. What is the probability that at least one marble is of blue colour? एक बॉक्स में 4 काले, 4 नारंगी और 2 नीले कंचे हैं। दो कंचों को अनियमित रूप से निकाला जाता है। कम से कम एक कंचे के नीले रंग के होने की प्रायिकता क्या है?

- $\frac{4}{5}$

- $\frac{3}{5}$

- $\frac{1}{5}$

- None of these/इनमें से कोई नहीं

Correct Answer :-None of these/इनमें से कोई नहीं

20)

Question Stimulus :-

A person can reach a place in 50 days by walking and resting for 9 hours a day. If he doubles his speed and also rests for double time then in how many days will he cover the double distance?/ एक आदमी 9 घंटे प्रतिदिन विश्राम करके एक स्थान पर पैदल 50 दिन में पहुँच सकता है । यदि वह अपनी गति को दोगुना कर दे और विश्राम भी दोगुना करे तो दोगुनी दूरी कितने दिनों में तय करेगा?

- 126
- 128
- 125
- 129

Correct Answer :-125

Topic:- Logical Reasoning

1)

Question Stimulus :-

In a row of boys, A is fifteenth from the left and B is fourth from the right. There are three boys between A and B. C is just left of A. What is C's position from the right?/लड़कों की एक पंक्ति में, A बायें से 15वाँ तथा B दायें से चौथा है । A और B के बीच में 3 लडके हैं । C, A के बिल्कुल बायीं ओर है । दायें से C का कौन सा स्थान है?

- 9th/9वाँ
- 10th/10वाँ
- 12th/12वाँ
- 13th/13वाँ

Correct Answer :-9th/9वाँ

2)

Question Stimulus :-

If green' is called 'white', 'white' is called yellow', 'yellow' is called 'blue', 'blue' is called 'pink' and 'pink' is called 'black', then what is the colour of sky?/ यदि 'हरा' को 'सफेद' कहा जाये, 'सफेद' को 'पीला' कहा जाये, 'पीला' को 'नीला' कहा जाये, 'नीला' को 'गुलाबी' कहा जाये और 'गुलाबी' को 'काला' कहा जाये, तो आकाश का रंग कौन सा होगा?

- green/ हरा
- blue/ नीला
- pink/ गुलाबी
- yellow/ पीला

Correct Answer :-pink/ गुलाबी

3)

Question Stimulus :-

If 10th August, 2001 was Tuesday, which day did fall on 25th September, 2002?/यदि 10 अगस्त, 2001 को मंगलवार था, तो 25 सितम्बर 2002 को कौन सा दिन होगा?

- Thursday/बृहस्पतिवार
- Wednesday/बुधवार
- Saturday/शनिवार
- Sunday/रविवार

Correct Answer :-Sunday/रविवार

4)

Question Stimulus :-

B is brother of D. D is sister of F. M is brother of F. How is F related to B?/B, D का भाई है । D, F की बहन है । M, F का भाई है । F, B से किस प्रकार संबंधित है?

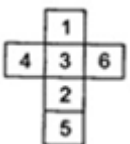
- Brother/भाई
- Sister/बहन
- Brother or Sister/भाई या बहन
- Cousin/कजिन

Correct Answer :-Brother or Sister/भाई या बहन


5)

Question Stimulus :-

An unfolded dice is given, from the answer figures which figure is similar when unfolded to the question figure./एक खुला हुआ पास दिया गया है, उत्तर आकृतियों में किस आकृति को खोलने पर वह प्रश्न आकृति के सामान दिखाई देगी?





Correct Answer :- 

6)

Question Stimulus :-

Samir was standing facing East. He turned to his right and walked 5 m, again turned to his right and walked 7 m. Then he turned to his left and walked 4 m. In which direction is he facing now?/समीर, पूर्व दिशा की ओर मुँह किए खड़ा था । वह अपने दाएं मुड़ा और 5 मीटर चला, फिर अपने दाएं मुड़ा और 7 मीटर चला । फिर वह अपने बाएं मुड़ा और 4 मीटर चला । अब उसका मुख किस दिशा की ओर है?

- North/उत्तर
- South/दक्षिण
- West/पश्चिम
- North-West/ उत्तर-पश्चिम

Correct Answer :-South/दक्षिण

7)

Question Stimulus :-

A man and a woman are sitting in a room. Man's mother-in-law and woman's mother-in-law are mother and daughter respectively. Man is the _____ of the woman./एक पुरुष और एक महिला किसी एक कमरे में बैठे हैं । उस पुरुष की सास और उस महिला की सास आपस में माँ और पुत्री हैं । वह पुरुष उस महिला का _____ है ।

- Father/पिता
- Mother/माँ
- Uncle/चाचा
- Father-in-law/ससुर

Correct Answer :-Father-in-law/ससुर

8)

Question Stimulus :-

DIRECTIONS: In the question below, there are few statements followed by few conclusions. You have to take the given statements to be true even if they seem to be at variance with commonly known facts and then decide which of the given conclusion logically follow(s) from the given statements./निर्देश: नीचे दिए गए प्रश्न में कुछ कथन और उसके बाद कुछ निष्कर्ष दिए

गए हैं। आपको दिए गए कथनों को सत्य मानना है भले ही वे सर्वज्ञात तथ्यों से भिन्न प्रतीत होते हों। सभी निष्कर्षों को पढ़िए फिर तय कीजिए कि दिए गए निष्कर्षों में से कौन सा तर्कसंगत रूप से अनुसरण करता है, चाहे सर्वज्ञात तथ्य कुछ भी हों।

Statements:/कथन:

All animals are dogs./सभी जानवर, कुत्ते हैं।

All dogs are birds./सभी कुत्ते, चिड़िया हैं।

Some animals are wild./कुछ जानवर, जंगली हैं।

Conclusions:/निष्कर्ष:

I. All animals are birds./सभी जानवर, चिड़िया हैं।

II. All birds are animals./सभी चिड़िया, जानवर हैं।

- Only conclusion I follows./केवल निष्कर्ष I अनुसरण करता है
- Only conclusion II follows./केवल निष्कर्ष II अनुसरण करता है
- Either conclusion I or II follows./या निष्कर्ष I या II अनुसरण करता है
- Both conclusions I and II follow/दोनों निष्कर्ष I और II अनुसरण करते हैं

Correct Answer :-Only conclusion I follows./केवल निष्कर्ष I अनुसरण करता है

9)

Question Stimulus :-

Pole H is to the east of pole R and to the North of pole D, pole D is in which direction with respect to pole R?/खंभा H, खंभा R के पूर्व में है और खंभा D के उत्तर में है, खंभा D, खंभा R के सापेक्ष किस दिशा में है?

- North-East/उत्तर-पूर्व
- South-West/दक्षिण-पश्चिम
- North-West/उत्तर-पश्चिम
- South-East/दक्षिण-पूर्व

Correct Answer :-South-East/दक्षिण-पूर्व

10)

Question Stimulus :-

DIRECTIONS: Study the following information carefully and answer the questions given below./निर्देश: निम्नलिखित जानकारी का ध्यानपूर्वक अध्ययन कर नीचे दिए गए प्रश्नों का उत्तर दीजिए।

(i) $P \times Q$ means P is brother of Q/ $P \times Q$ का अर्थ है P, Q का भाई है

(ii) $P - Q$ means P is mother of Q/ $P - Q$ का अर्थ है P, Q की माँ है

(iii) $P + Q$ means P is sister of Q / $P + Q$ का अर्थ है P, Q की बहन है

(iv) $P \div Q$ means P is father of Q / $P \div Q$ का अर्थ है P, Q के पिता हैं

How is W related to M in the expression $W + T \div R \times M$? / समीकरण $W + T \div R \times M$ में, W का M से क्या संबंध है?

- Maternal aunt/ मौसी
- Paternal Aunt/ बुआ
- Grandmother/ दादी
- Data inadequate/अपर्याप्त डाटा

Correct Answer :-Paternal Aunt/ बुआ

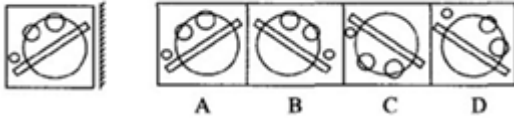
11)

Question Stimulus :-

DIRECTIONS: Find the Mirror image of the main figure./निर्देश:मुख्य आकृति का दर्पण प्रतिबिंब ज्ञात करें:

Main Figure

मुख्य आकृति



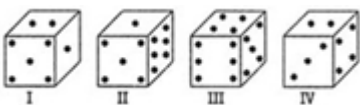
- A
- B
- C
- D

Correct Answer :-B

12)

Question Stimulus :-

From the given four positions of a single dice, find the number of dots at the face opposite to the face having 4 dots./एक एकल पासे की दी गई चार स्थितियों में से 4 बिन्दु वाली सतह के विपरीत वाली सतह पर उपस्थिति बिन्दुओं की संख्या ज्ञात करें ।



- 1
- 2
- 3

- 4

Correct Answer :-1

13)

Question Stimulus :-

DIRECTIONS: From the given responses, find the missing term in the series./ निर्देश: दिए गए विकल्पों में से श्रेणी में लुप्त पद को ज्ञात करे:

Q1, P2, R6, N24, V120, ____

- W600
- X720
- F720
- F600

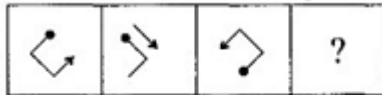
Correct Answer :-F720

14)

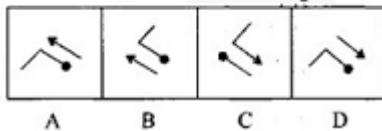
Question Stimulus :-

DIRECTIONS: Which figure from the following options can replace the question mark?/ निर्देश: निम्न विकल्पों में से कौन सी आकृति प्रश्न चिन्ह को प्रतिस्थापित कर सकती है?

Problem Figures / प्रश्न आकृति



Answer Figures / उत्तर आकृति



- A
- B
- C
- D

Correct Answer :-B

15)

Question Stimulus :-

A clock buzzes 1 time at 1 O'clock, 2 times at 2 O'clock, 3 times at 3 O'clock and so on. What will be the total number of buzzes by the clock in a day?/ एक घड़ी 1 बजे 1 बार बजती है, 2 बजे 2 बार बजती है, 3 बजे 3 बार बजती है और इसी प्रकार आगे भी । एक दिन में घड़ी, कुल कितनी बार बजती है ?

- 150
- 156
- 100
- None of these/ इनमें से कोई नहीं

Correct Answer :-156

16)

Question Stimulus :-

DIRECTIONS: In the question below, there are few statements followed by few conclusions. You have to take the given statements to be true even if they seem to be at variance with commonly known facts and then decide which of the given conclusion logically follow(s) from the given statements./निर्देश: नीचे दिए गए प्रश्न में कुछ कथन और उसके बाद कुछ निष्कर्ष दिए गए हैं। आपको दिए गए कथनों को सत्य मानना है भले ही वे सर्वज्ञात तथ्यों से भिन्न प्रतीत होते हों। सभी निष्कर्षों को पढ़िए फिर तय कीजिए कि दिए गए निष्कर्षों में से कौन सा तर्कसंगत रूप से अनुसरण करता है, चाहे सर्वज्ञात तथ्य कुछ भी हों।

Statements:/कथन:

Some shoes are white./कुछ जूते, सफेद हैं।

All white are blue./सभी सफेद, नीले हैं।

All blue are red./सभी नीले, लाल हैं।

Conclusions:/निष्कर्ष:

I. All shoes are blue./सभीजूते, नीले हैं।

II. Some shoes are blue./कुछ जूते, नीले हैं।

- Only conclusion I follows./केवल निष्कर्ष I अनुसरण करता है
- Only conclusion II follows./केवल निष्कर्ष II अनुसरण करता है
- Either conclusion I or II follows./या निष्कर्ष I या II अनुसरण करता है
- Both conclusions I and II follow/ दोनों निष्कर्ष I और II अनुसरण करते हैं

Correct Answer :-Only conclusion II follows./केवल निष्कर्ष II अनुसरण करता है

17)

Question Stimulus :-

DIRECTIONS: In the question below, there are few statements followed by few conclusions. You have to take the given statements to be true even if they seem to be at variance with commonly known facts and then decide which of the given conclusion logically follow(s) from the given statements./निर्देश: नीचे दिए गए प्रश्न में कुछ कथन और उसके बाद कुछ निष्कर्ष दिए गए हैं। आपको दिए गए कथनों को सत्य मानना है भले ही वे सर्वज्ञात तथ्यों से भिन्न प्रतीत होते हों। सभी

निष्कर्षों को पढ़िए फिर तय कीजिए कि दिए गए निष्कर्षों में से कौन सा तर्कसंगत रूप से अनुसरण करता है, चाहे सर्वज्ञात तथ्य कुछ भी हों।

Statements:/कथन:

All frogs are tortoise./सभी मेंडक, कछुए हैं।

No tortoise is a crocodile./कोई कछुआ, मगरमच्छ नहीं है।

Some crocodiles are elephants./कुछ मगरमच्छ, हाथी हैं।

Conclusions:/निष्कर्ष:

I. Some tortoise are frogs./कुछ कछुआ, मेंडक हैं।

II. No crocodile is a frog./कोई मगरमच्छ, मेंडक नहीं है।

- Only conclusion I follows./केवल निष्कर्ष I अनुसरण करता है
- Only conclusion II follows./केवल निष्कर्ष II अनुसरण करता है
- Either conclusion I or II follows./या निष्कर्ष I या II अनुसरण करता है
- Both conclusions I and II follow/दोनों निष्कर्ष I और II अनुसरण करते हैं

Correct Answer :-Both conclusions I and II follow/दोनों निष्कर्ष I और II अनुसरण करते हैं

18)

Question Stimulus :-

DIRECTIONS: From the given responses, find the missing term in the series./निर्देश: दिए गए विकल्पों में से श्रेणी में लुप्त पद को ज्ञात करें:

A1Z, E2V, I6R, M21N, Q88J, ___

- F44SU
- U445F
- G342C
- V441G

Correct Answer :-U445F

19)

Question Stimulus :-

In the following options, three of them are alike in a certain way and thus form a group. Which one does not belong to that group?/निम्न विकल्पों में से तीन एक निश्चित तरीके से समान हैं और इसलिए एक समूह बनाते हैं। कौन-सा एक, इस समूह से सम्बन्धित नहीं है?

- ADBEC
- FIGJH

- KNLOM
- PRTSQ

Correct Answer :-PRTSQ

20)

Question Stimulus :-

DIRECTIONS: This question is based on the following letter/number/symbol arrangement. Study it carefully and answer the questions./निर्देश: यह प्रश्न नीचे दी गई अक्षर/अंक/चिन्ह की व्यवस्था पर आधारित हैं। इसे ध्यानपूर्वक पढ़ें और प्रश्न का उत्तर दें।

8 G A R # 7 H E % 9 L 1 @ J K I D U 5 B T 3 \$ Q M 2 * F 4

How many such vowels are there in the above arrangement each of which is immediately preceded by a consonant and also immediately followed by a symbol?/ऊपर दी गई व्यवस्था में ऐसे कितने स्वर हैं, जिनके तुरंत पहले व्यंजन और तुरंत बाद चिन्ह आता है?

- One/एक
- Two/दो
- Three/तीन
- None/कोई नहीं

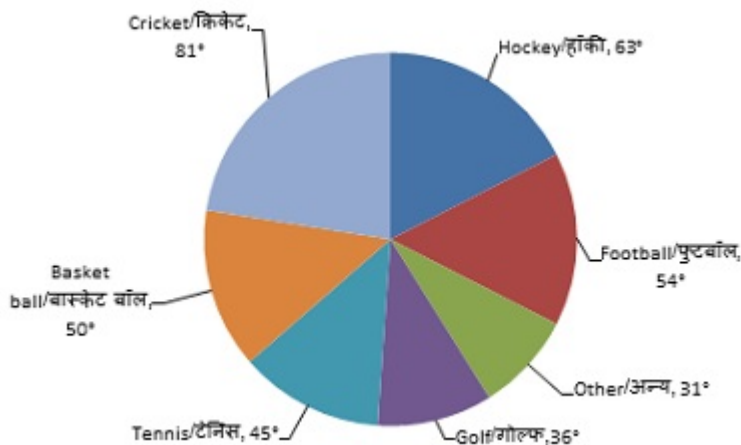
Correct Answer :-One/एक

Topic:- RC_Quantitative Aptitude

1)

Question Stimulus :-

DIRECTIONS: The Pie-chart given here shows the spending of a country on various sports during a particular year. Study the graph carefully and answer the questions given below it./निर्देश: नीचे दिया हुआ पाई-चार्ट एक विशेष वर्ष में देश में विभिन्न खेलों पर खर्च को दर्शाता है। ग्राफ का ध्यानपूर्वक अध्ययन करें तथा नीचे दिए गए प्रश्नों का उत्तर दें।



What percent of the total spending is spent on Tennis?/ टेनिस पर कुल खर्च का कितना प्रतिशत खर्च होता है?

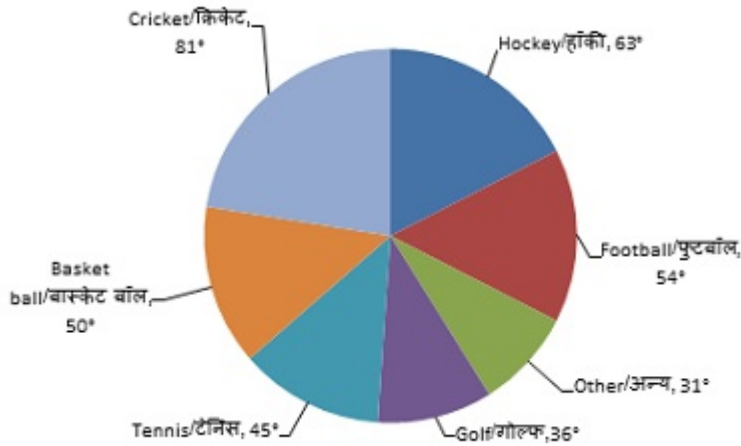
- $12\frac{1}{2}\%$
- $22\frac{1}{2}\%$
- 25%
- 45%

Correct Answer :- $12\frac{1}{2}\%$

2)

Question Stimulus :-

DIRECTIONS: The Pie-chart given here shows the spending of a country on various sports during a particular year. Study the graph carefully and answer the questions given below it./
निर्देश: नीचे दिया हुआ पाई-चार्ट एक विशेष वर्ष में देश में विभिन्न खेलों पर खर्च को दर्शाता है। ग्राफ का ध्यानपूर्वक अध्ययन करें तथा नीचे दिए गए प्रश्नों का उत्तर दें।



How much percent more is spent on Hockey than that on Golf? गोल्फ की अपेक्षा हॉकी पर कितने प्रतिशत अधिक खर्च हुआ?

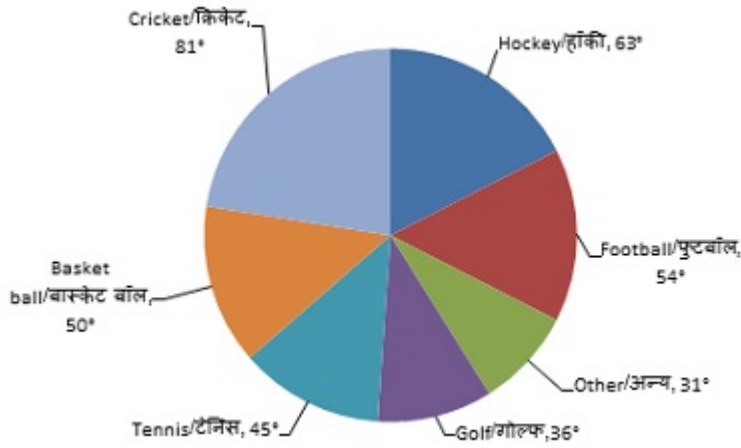
- 27%
- 35%
- 37.5%
- 75%

Correct Answer :-75%

3)

Question Stimulus :-

DIRECTIONS: The Pie-chart given here shows the spending of a country on various sports during a particular year. Study the graph carefully and answer the questions given below it./
निर्देश: नीचे दिया हुआ पाई-चार्ट एक विशेष वर्ष में देश में विभिन्न खेलों पर खर्च को दर्शाता है। ग्राफ का ध्यानपूर्वक अध्ययन करें तथा नीचे दिए गए प्रश्नों का उत्तर दें।



How much percent less in spent on Football than that on Cricket?/क्रिकेट की अपेक्षा फुटबॉल पर कितने प्रतिशत कम खर्च हुआ?

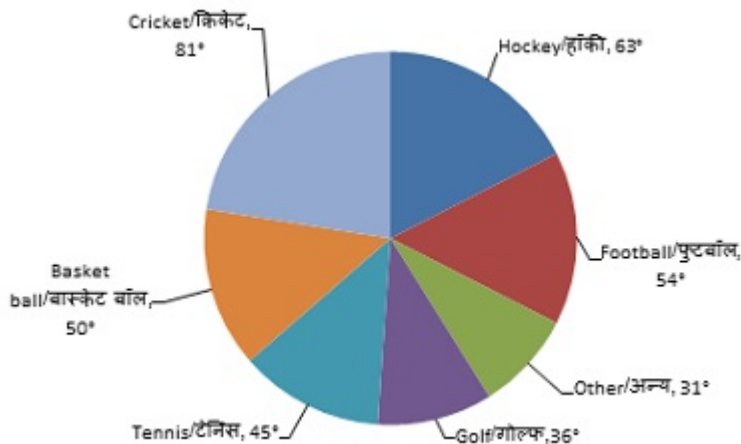
- $22\frac{2}{9}\%$
- 27%
- $33\frac{1}{3}\%$
- $37\frac{1}{2}\%$

Correct Answer :- $33\frac{1}{3}\%$

4)

Question Stimulus :-

DIRECTIONS: The Pie-chart given here shows the spending of a country on various sports during a particular year. Study the graph carefully and answer the questions given below it./ निर्देश: नीचे दिया हुआ पाई-चार्ट एक विशेष वर्ष में देश में विभिन्न खेलों पर खर्च को दर्शाता है। ग्राफ का ध्यानपूर्वक अध्ययन करें तथा नीचे दिए गए प्रश्नों का उत्तर दें।



If the total amount spent on sports during the year was ₹2 crore, the amount spent on Cricket and Hockey together was: / यदि पूरे वर्ष में सम्पूर्ण खेलों पर ₹2 करोड़ खर्च हुए हों, तो क्रिकेट तथा हॉकी पर एक साथ खर्च हुए थे:

- ₹8,00,000

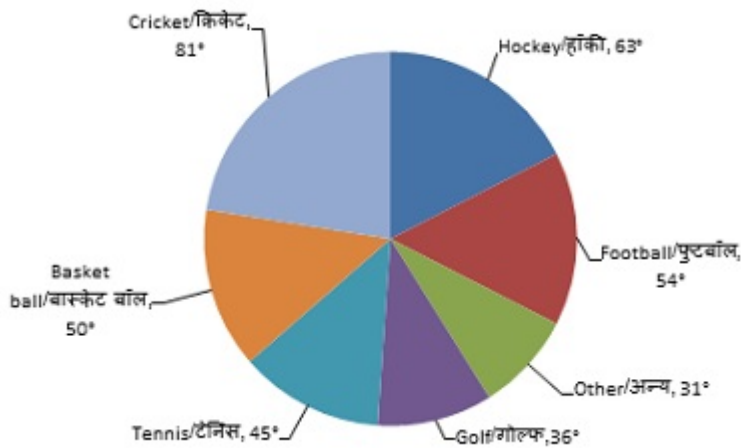
- ₹80,00,000
- ₹1,20,00,000
- ₹1,60,00,000

Correct Answer :- ₹80,00,000

5)

Question Stimulus :-

DIRECTIONS: The Pie-chart given here shows the spending of a country on various sports during a particular year. Study the graph carefully and answer the questions given below it./
निर्देश: नीचे दिया हुआ पाई-चार्ट एक विशेष वर्ष में देश में विभिन्न खेलों पर खर्च को दर्शाता है। ग्राफ का ध्यानपूर्वक अध्ययन करें तथा नीचे दिए गए प्रश्नों का उत्तर दें।



If the total amount spent on sports during the year be ₹1,80,00,000, the amount spent on Basketball exceeds that on Tennis by:./ यदि पूरे वर्ष में सम्पूर्ण खेलों पर ₹1,80,00,000 खर्च हुए हों, तो बास्केटबॉल पर टेनिस की अपेक्षा कितना अधिक खर्च हुआ?

- ₹2,50,000
- ₹3,60,000
- ₹37,50,000
- ₹4,10,000

Correct Answer :- ₹2,50,000

Topic:- RC_Logical Reasoning

1)

Question Stimulus :-

DIRECTIONS: Study the following information carefully and answer the questions given below:./निर्देश: दी गई जानकारी को ध्यानपूर्वक पढ़ें और नीचे दिए गए प्रश्नों के उत्तर दें:

P, M, D, A, F, H, R and B are sitting around a circle facing at the centre. R is fourth to the right of A who is third to the right of P. M is second to the left of H who is second to the left of P. D is third to the right of B./P, M, D, A, F, H, R और B एक वृत्त के चारों ओर केन्द्र की ओर मुख

किये बैठे हैं। R, A के दाएं से चौथे स्थान पर है जो P के दाएं से तीसरे स्थान पर है। M, H के बाएं से दूसरे स्थान पर है, जो P के बाएं से दूसरे स्थान पर है। D, B के दाएं से तीसरे स्थान पर है।

Who is the third to the left of H?/H के बाएं से तीसरे स्थान पर कौन है?

- M
- A
- B
- F

Correct Answer :-A

2)

Question Stimulus :-

DIRECTIONS: Study the following information carefully and answer the questions given below:./निर्देश:दी गई जानकारी को ध्यानपूर्वक पढ़ें और नीचे दिए गए प्रश्नों के उत्तर दें:

P, M, D, A, F, H, R and B are sitting around a circle facing at the centre. R is fourth to the right of A who is third to the right of P. M is second to the left of H who is second to the left of P. D is third to the right of B./P, M, D, A, F, H, R और B एक वृत्त के चारों ओर केन्द्र की ओर मुख किये बैठे हैं। R, A के दाएं से चौथे स्थान पर है जो P के दाएं से तीसरे स्थान पर है। M, H के बाएं से दूसरे स्थान पर है, जो P के बाएं से दूसरे स्थान पर है। D, B के दाएं से तीसरे स्थान पर है।

Which of the following pairs represents the immediate neighbours of B?/निम्न में से कौन-सा जोड़ा B के निकटतम पड़ोसियों को दर्शाता है?

- FM
- AP
- MP
- AF

Correct Answer :-AF

3)

Question Stimulus :-

DIRECTIONS: Study the following information carefully and answer the questions given below:./निर्देश:दी गई जानकारी को ध्यानपूर्वक पढ़ें और नीचे दिए गए प्रश्नों के उत्तर दें:

P, M, D, A, F, H, R and B are sitting around a circle facing at the centre. R is fourth to the right of A who is third to the right of P. M is second to the left of H who is second to the left of P. D is third to the right of B./P, M, D, A, F, H, R और B एक वृत्त के चारों ओर केन्द्र की ओर मुख किये बैठे हैं। R, A के दाएं से चौथे स्थान पर है जो P के दाएं से तीसरे स्थान पर है। M, H के बाएं से दूसरे स्थान पर है, जो P के बाएं से दूसरे स्थान पर है। D, B के दाएं से तीसरे स्थान पर है।

If R and B interchange their position, who will be second to the left of M?/यदि R और B स्थान अदल-बदल लेते हैं, M के बाएं से दूसरे स्थान पर कौन होगा?

- B
- H
- Data inadequate/अपर्याप्त डेटा
- None of these/इनमें से कोई नहीं

Correct Answer :-None of these/इनमें से कोई नहीं

4)

Question Stimulus :-

DIRECTIONS: Study the following information carefully and answer the questions given below: ?/निर्देश: दी गई जानकारी को ध्यानपूर्वक पढ़ें और नीचे दिए गए प्रश्नों के उत्तर दें:

P, M, D, A, F, H, R and B are sitting around a circle facing at the centre. R is fourth to the right of A who is third to the right of P. M is second to the left of H who is second to the left of P. D is third to the right of B. /P, M, D, A, F, H, R और B एक वृत्त के चारों ओर केन्द्र की ओर मुख किये बैठे हैं। R, A के दाएं से चौथे स्थान पर है जो P के दाएं से तीसरे स्थान पर है। M, H के बाएं से दूसरे स्थान पर है, जो P के बाएं से दूसरे स्थान पर है। D, B के दाएं से तीसरे स्थान पर है।

Who is to the immediate right of P? /P के निकटतम दाएं कौन है?

- F
- R
- B
- Data inadequate/अपर्याप्त डेटा

Correct Answer :-F

5)

Question Stimulus :-

DIRECTIONS: Study the following information carefully and answer the questions given below: ?/निर्देश: दी गई जानकारी को ध्यानपूर्वक पढ़ें और नीचे दिए गए प्रश्नों के उत्तर दें:

P, M, D, A, F, H, R and B are sitting around a circle facing at the centre. R is fourth to the right of A who is third to the right of P. M is second to the left of H who is second to the left of P. D is third to the right of B. /P, M, D, A, F, H, R और B एक वृत्त के चारों ओर केन्द्र की ओर मुख किये बैठे हैं। R, A के दाएं से चौथे स्थान पर है जो P के दाएं से तीसरे स्थान पर है। M, H के बाएं से दूसरे स्थान पर है, जो P के बाएं से दूसरे स्थान पर है। D, B के दाएं से तीसरे स्थान पर है।

Who is to the immediate right of M? /M के निकटतम दाएं कौन है?

- H
- A
- D
- Data inadequate/अपर्याप्त डेटा

Correct Answer :-D